

SOAL PENILAIAN HARIAN KELAS 6 TEMA 3 SUBTEMA 3

Soal Pilihan Ganda

1. Perhatikan gambar berikut!



Hak yang hilang berdasarkan gambar tersebut adalah

- a. beristirahat dengan nyaman
 - b. belajar dengan tenang
 - c. mendengarkan radio
 - d. menonton televisi
2. Perhatikan gambar berikut!



Berkendara wajib menaati aturan. Berikut ini pelanggaran yang tampak dari gambar tersebut, **kecuali**

- a. Tidak memakai helm saat berkendara.
 - b. Belum memiliki SIM karena masih SD.
 - c. Sepeda motor digunakan tiga orang.
 - d. Berkonsentrasi saat mengendari kendaraan.
3. Pengendara kendaraan bermotor wajib berhenti ketika melihat rambu?

a.



b.



c.



d.



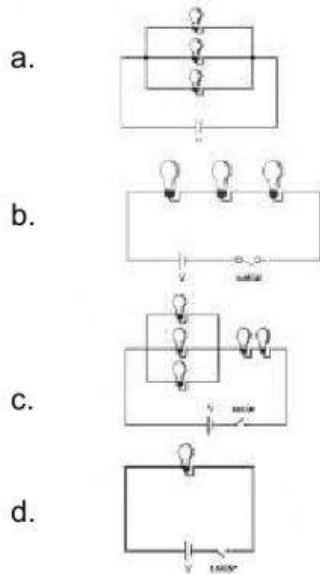
4. **Perhatikan teks eksplanasi berikut!**

Penemuan Morgan membawa manfaat yang besar. Hingga saat ini, lampu lalu lintas bermanfaat untuk mengatur kendaraan di jalan raya. Lampu lalu lintas juga menyelamatkan pengguna jalan dari kecelakaan. Tanpa lampu lalu lintas, arus kendaraan di jalan raya akan rame dan tidak teratur.

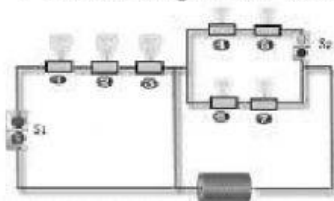
Kata tidak baku pada teks eksplanasi tersebut adalah

- a. kendaraan
- b. kecelakaan
- c. rame
- d. teratur

5. Berikut ini yang merupakan rangkaian listrik campuran adalah



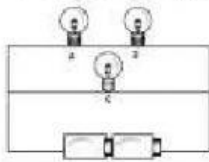
6. Perhatikan gambar berikut!



Jika sakelar S_1 dibuka dan sakelar S_2 ditutup lampu yang menyala adalah

- a. 4 dan 5
- b. 6 dan 7
- c. 1, 2, dan 3
- d. 4, 5, 6, dan 7

7. Perhatikan gambar berikut!



Jika lampu A dilepas, maka

- a. lampu B menyala
 - b. lampu C menyala
 - c. lampu B dan C menyala
 - d. lampu B dan C tidak menyala
8. Salah satu manfaat adanya alat transportasi modern adalah
- a. perjalanan terasa lebih lama
 - b. biaya yang diperlukan mahal
 - c. tidak membutuhkan ongkos biaya
 - d. lebih cepat dan mudah mencapai tujuan
9. Radio ditemukan pertama kali oleh
- a. Thomas Alva Edison
 - b. Guglielmo Marconi
 - c. Michael Faraday
 - d. Adam Smith
10. Berikut ini adalah contoh alat transportasi modern, *kecuali*
- a. pesawat terbang
 - b. kereta api
 - c. kapal laut
 - d. pedati
11. pada tangga nada mayor, jarak antara nada re - mi yaitu
- a. 1
 - b. $1 \frac{1}{2}$
 - c. 2
 - d. 3
12. Lagu Soleram berasal dari daerah
- a. Aceh
 - b. Maluku
 - c. Papua
 - d. Riau
13. Alat musik ritmis yang memiliki tuts adalah
- a. seruling
 - b. harmonika
 - c. pianika
 - d. gamelan

Soal Isian (Tariklah jawaban yang benar ke dalam soal)

1. Perhatikan rambu berikut!



Saat melihat rambu tersebut, kita harus

2. Perhatikan gambar berikut!

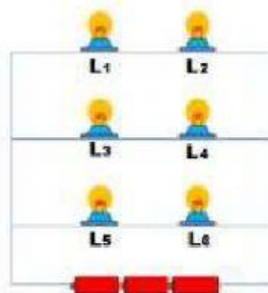


Saat melihat rambu berikut, berarti kita akan mendekati

3. Bentuk baku dari kata teknologi adalah

4. Kosakata yang ditulis sesuai Pedoman Umum Ejaan Bahasa Indonesia disebut kosakata

5. Perhatikan gambar berikut!



Jika lampu L₃ padam, maka lampu yang ikut padam adalah

6. Rangkaian listrik yang terdiri dari rangkaian seri dan paralel disebut rangkaian
7. Orang yang menggunakan barang atau jasa disebut
8. Menurut jenisnya, alat transportasi terdiri dari alat transportasi darat, ... dan
9. Lagu daerah berjudul Botol Maropat Suhi berasal dari daerah
10. Alat musik angklung dimainkan dengan cara

Jawaban Soal Isian

campuran

belok kiri, mengikuti arah rambu

L₄

konsumen

rumah sakit

baku

laut, udara

teknologi

digoyangkan

Tapanuli