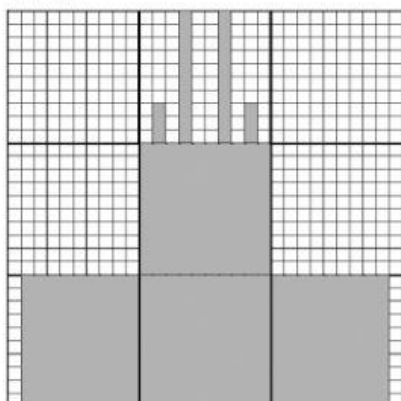


Vegyes gyakorló feladatok

1. Az alábbi négyzetrácsos lap egy részét szürkére festettük az ábra szerint.

□ = 1



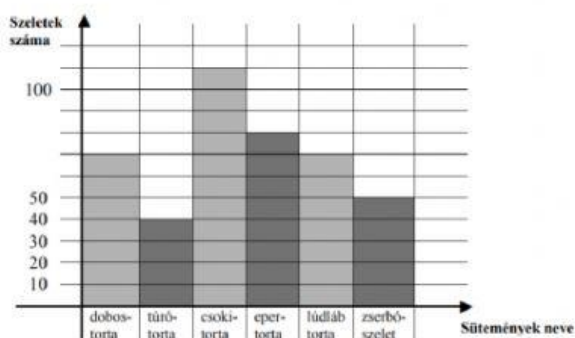
Hány kis négyzetet festettünk szürkére? db

Hány kis négyzet nincs szürkére festve? db

A teljes ábra hányad része szürke? $\frac{\quad}{\quad}$ része

2. Az alábbi diagram azt mutatja meg, hogy egy gyermeknap rendezvényen melyik süteményből hány szeletet fogyasztottak el a gyerekek.

A diagram alapján állapítsd meg, hogy melyik állítás igaz, és melyik nem igaz!



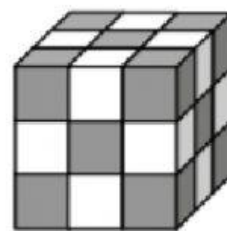
A legkevesebb a túrótortából fogyott..

Több dobostorta fogyott, mint ahány eper-torta.....

Nem fogyott több szelet a lúdláb-tortából, mint a dobostortából.

Az ötféle tortaszeletből hétszer annyi fogyott el, mint a zserbószeletből.

3. Fehér, 1 cm élű kiskockákból 3 cm élű tömör kockát építettünk, majd a mellékelt rajz szerint négyzet alakú szürke matricákat ragasztottunk a nagy kocka mind a hat lapjára.



Hány kiskockát használtunk fel az építéshez? db

Hány szürke matricát ragasztottunk fel a megépített kockára? db

Hány kiskockára került három matrica? db

A felhasznált kiskockák közül hánynak nincs matricás lapja? db

4. Árleszállítás előtt az alábbi két könyvnek ugyanannyi volt az ára, mindkettő 860 Ft-ba került.





Árleszállításkor Az erdő állatai című könyv árából 290 Ft-ot engedtek, a Mesés történetek című könyv árát a felére csökkentették.

Jelöld a fenti ábrán azt a könyvet, amelyik olcsóbb lett a másikinál az árleszállítás után!

Hány forint a különbség a két könyv ára között az árleszállítás után? Ft

5. Az iskola uszodájában 8 pályán lehet úszni. Szombaton reggel 8 órakor az első pályán ketten úsztak, és minden további pályán eggyel többen, mint az előzőben. Az első három pályán csak gyerekek, a többin csak felnőttek úsztak.

1.	 
2.	
3.	
4.	
5.	
6.	
7.	
8.	

Hány gyerek úszott ekkor az uszodában?

Hányan úsztak összesen ekkor ebben az uszodában?

Igaz-e, hogy ebben az időben 5-ször annyi felnőtt úszott, mint gyerek?.....

6. Az ábrán látható poharakban kakaó, narancslé és tea van. Eredetileg mindegyik pohár tele volt. Írd a poharak alá, melyikben melyik folyadékból van, ha igaz a következő két állítás!

A teának kb. a harmada fogyott el.

Narancsléből több van, mint teából.



.....