

Repaso: área y perímetro de un polígono

ÁREA

→ El **área** es la s_____ que tiene una figura.

→ Se mide con **unidades de Superficie**:

- cm^2
- m^2
- Km^2

PERÍMETRO


→ El **perímetro** es el c_____ que tiene una figura.

→ Se mide con **unidades de longitud**:

- cm
- m
- Km

TE ACONSEJO REALIZAR LOS PROBLEMAS PRIMERO EN UN CUADERNO

1. Marcos tiene una finca con forma de rectángulo cuyos lados miden 60 m y 25 m, y le ha puesto una valla alrededor. ¿Cuántos metros de valla ha utilizado?

| Datos | Operaciones | Solución |
|---|-------------------------------------|--------------------------------------|
| Lado _____m  Lado _____m | En el cuaderno o una hoja en blanco | Marcos ha utilizado _____m de valla. |

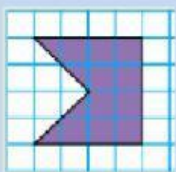
2. Virginia tiene 3 láminas cuadradas de 15 cm de lado.

Quiere ponerles un marco de madera a todas.


- ¿Tendrá bastante con un listón de 200 cm de longitud?
- ¿Cuántos centímetros le faltan o sobran?

| Datos | Operaciones | Solución |
|--|-------------------------------------|--|
| Tiene ____ x  Lado _____cm | En el cuaderno o una hoja en blanco | - Virginia (<u>si/no</u>) ____ tendrá bastante con un listón de 200cm. - Le (<u>faltan/sobran</u>) _____cm. |

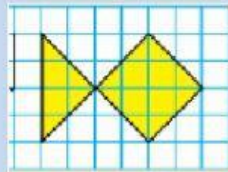
3. Escribe el área de cada figura.



A= _____



A= _____



A= _____

Hay cuadrados por la mitad



Señora Inma