

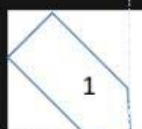
# GEOMETRÍA.

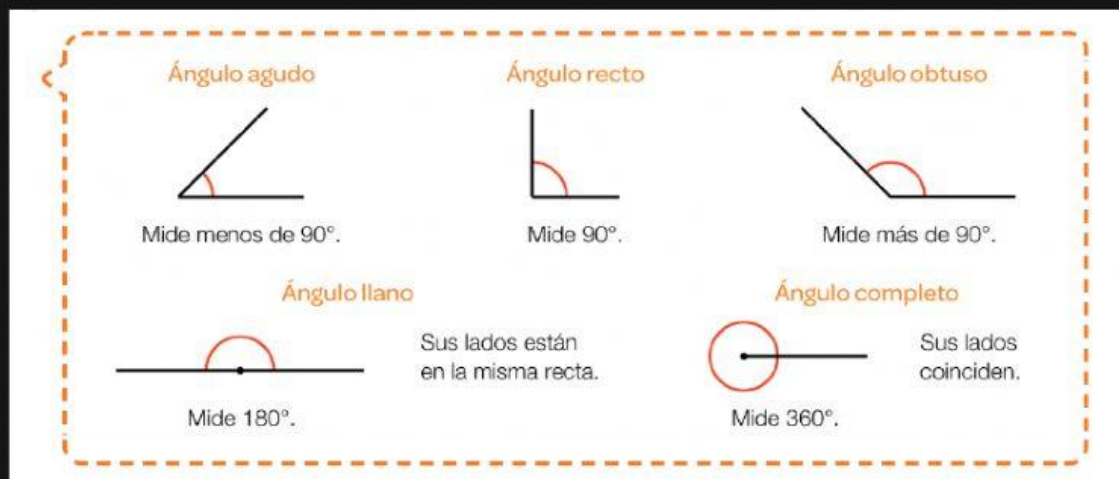


## FICHA 2: TIPOS DE ÁNGULOS.


1. Mira el vídeo sobre los ángulos.

2. Recuerda.





### 3. Elige el ángulo correcto:



### 4. Elige el ángulo correcto según su medida:



### 5. Elige:

¿En qué reloj sus agujas forman un ángulo obtuso?


☐

☐

☐

☐

☐

¿En qué reloj sus agujas forman un ángulo llano?


☐

☐

☐

☐

☐

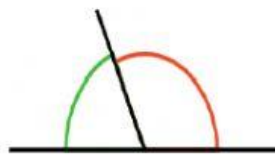
### 6. Recuerda y aprende.

Consecutivos




Tienen en común un lado y el vértice.

Adyacentes

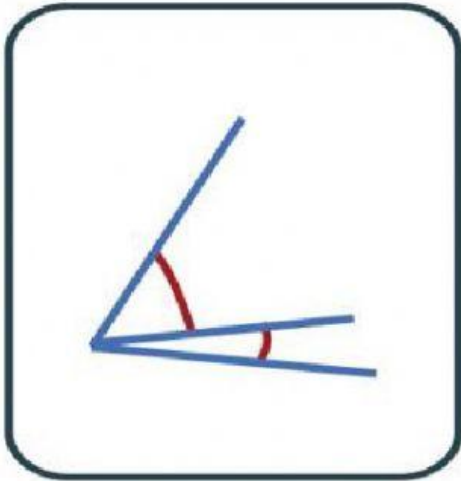


Son consecutivos y sus lados no comunes están en la misma recta.

Opuestos por el vértice



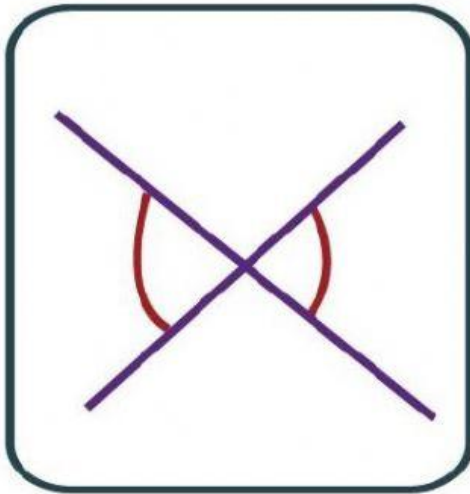
Tienen el mismo vértice y sus lados están en la misma recta.

**7. Elige.**


- ☐ Consecutivos
- ☐ Opuestos por el vértice
- ☐ De lados paralelos
- ☐ Adyacentes



- ☐ De lados paralelos
- ☐ Consecutivos
- ☐ Adyacentes
- ☐ Obtusos

**8. Elige la opción correcta:**

- ☐ Consecutivos
- ☐ Adyacentes
- ☐ Opuestos por el vértice
- ☐ De lados paralelos



- ☐ Consecutivos
- ☐ Correspondientes
- ☐ Complementarios
- ☐ Adyacentes