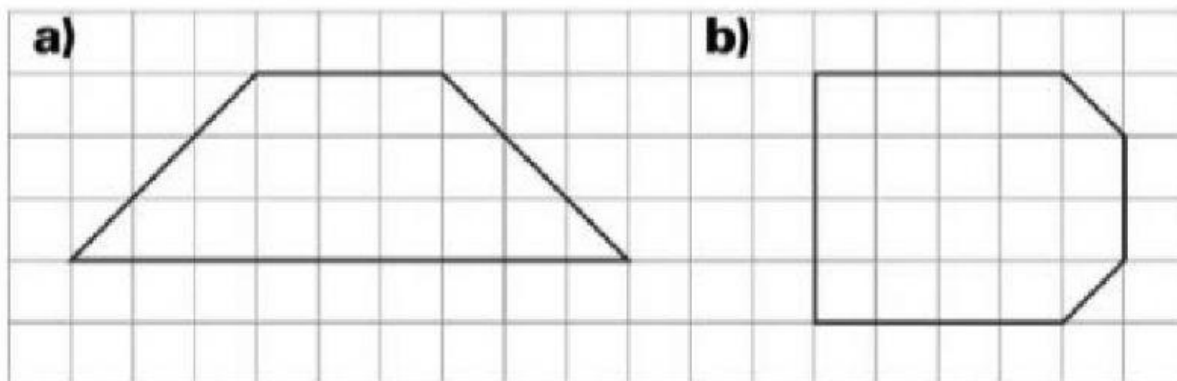


Nome _____

Data _____

Oficina de Matemática - Year 3

Encontre a área e o perímetro das figuras indicadas

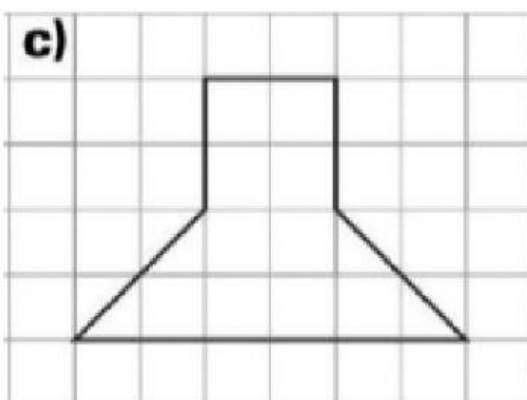


Área = _____ Unidades quadradas

Perímetro = _____ cm

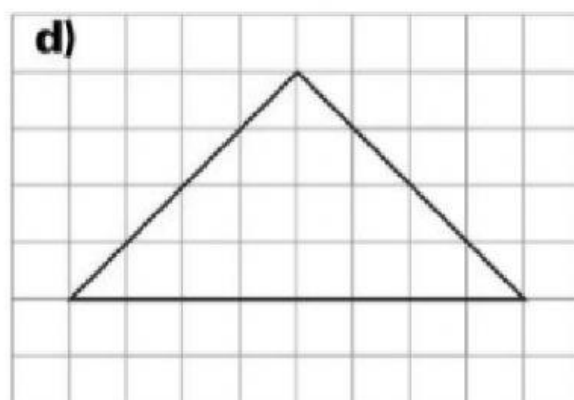
Área = _____ Unidades quadradas

Perímetro = _____ cm



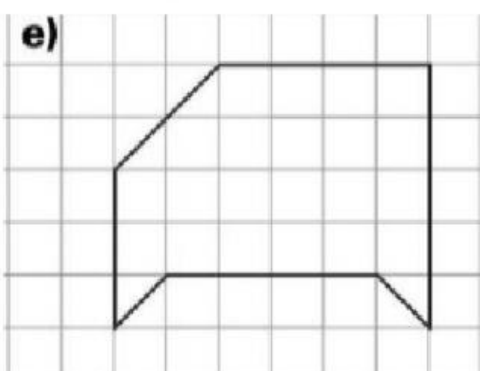
Área = _____ Unidades quadradas

Perímetro = _____ cm



Área = _____ Unidades quadradas

Perímetro = _____ cm



Área = _____ Unidades quadradas

Perímetro = _____ cm