


ชื่อ.....ชั้น ม.1/.....เลขที่.....

ให้นักเรียนเขียนจำนวนลูกบาศก์ในแต่ละข้อให้ถูกต้อง

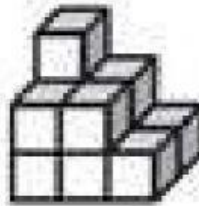
Volume

Find the volume for each shape. Use cubic units (cu.) for your units.

1.



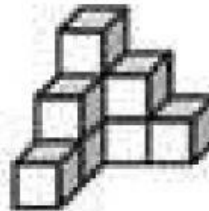
2.




3.



4.



5.



6.