

## 1. COMPLETA IL TESTO INSERENDO I TERMINI CORRETTI.

*VIE AEREE – OSSIGENO – ANIDRIDE CARBONICA – RESPIRATORIO*

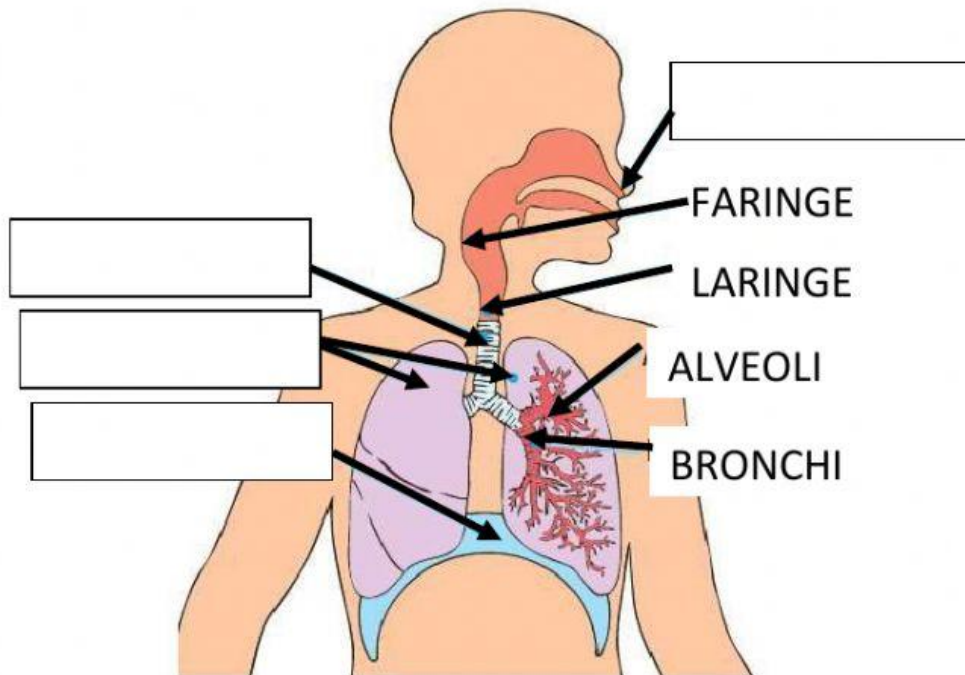
L'APPARATO \_\_\_\_\_ HA DUE FUNZIONI PRINCIPALI:

- FAR ENTRARE L' \_\_\_\_\_ NEL CORPO;
- FAR USCIRE L' \_\_\_\_\_ DAL CORPO.

L'APPARATO RESPIRATORIO È FORMATO DALLE \_\_\_\_\_ E DAI  
POLMONI.

## 2. INSERISCI I TERMINI CORRETTI SUL DISEGNO.

*BOCCA – DIAFRAMMA – TRACHEA – POLMONI*



3. RISCRIVI I TESTI AL POSTO CORRETTO.

ENTRA L'OSSIGENO

I POLMONI SI GONFIANO  
(DILATANO)

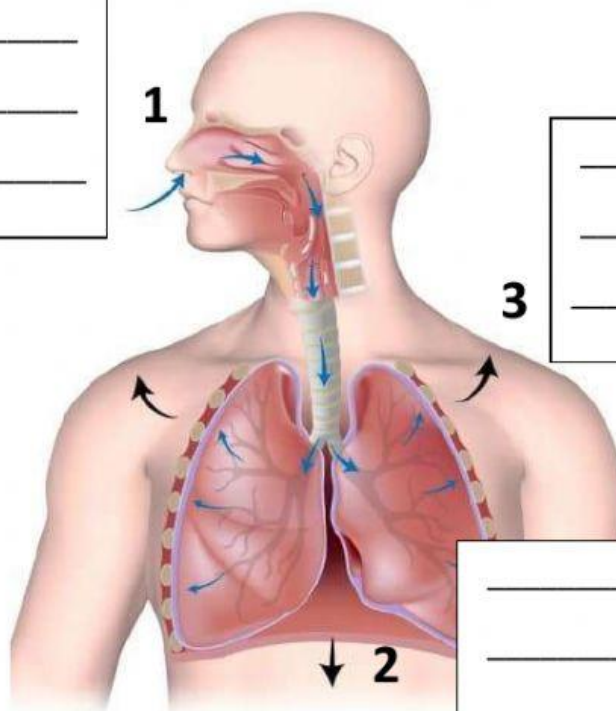
IL DIAFRAMMA SI  
ABBASSA

INSPIRAZIONE

\_\_\_\_\_

\_\_\_\_\_

\_\_\_\_\_



\_\_\_\_\_

\_\_\_\_\_

\_\_\_\_\_

\_\_\_\_\_

\_\_\_\_\_

\_\_\_\_\_

4. RISCRIVI I TESTI AL POSTO CORRETTO.

ESCE L'ANIDRIDE  
CARBONICA

I POLMONI SI SVUOTANO

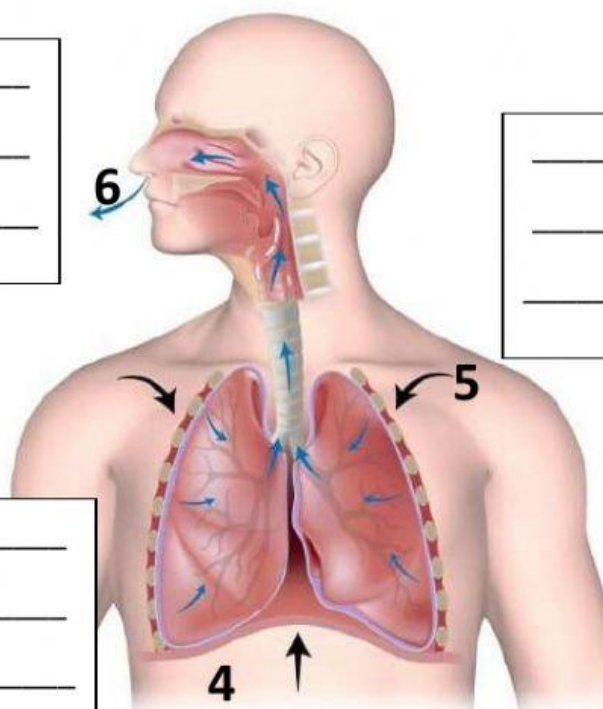
IL DIAFRAMMA SI  
ALZA

ESPIRAZIONE

\_\_\_\_\_

\_\_\_\_\_

\_\_\_\_\_



\_\_\_\_\_

\_\_\_\_\_

\_\_\_\_\_

\_\_\_\_\_

\_\_\_\_\_

\_\_\_\_\_