

Ayo kita isi dengan suatu bilangan.



6

○○○○○○

○○○○○○

○○○○○○

7

○○○○○○○

○○○○○○○

○○○○○○○

8

Aku punya 8.



9

9

9










Aku punya 9.



9

9

10 

	9 dan 1	<table border="1"><tr><td>10</td></tr><tr><td>9</td></tr></table>	10	9
10				
9				
	8 dan	<table border="1"><tr><td>10</td></tr><tr><td>8</td></tr></table>	10	8
10				
8				
	dan	<table border="1"><tr><td>10</td></tr><tr><td></td></tr></table>	10	
10				
	dan	<table border="1"><tr><td>10</td></tr><tr><td></td></tr></table>	10	
10				
	dan	<table border="1"><tr><td>10</td></tr><tr><td></td></tr></table>	10	
10				
	dan	<table border="1"><tr><td>10</td></tr><tr><td></td></tr></table>	10	
10				
	dan	<table border="1"><tr><td>10</td></tr><tr><td></td></tr></table>	10	
10				
	dan	<table border="1"><tr><td>10</td></tr><tr><td></td></tr></table>	10	
10				
	dan	<table border="1"><tr><td>10</td></tr><tr><td></td></tr></table>	10	
10				

Manakah yang sesuai?



Ayo Membuat Kartu Bilangan dari 1 sampai 10

1 Ayo buatlah kartu bilanganmu sendiri dari 1 sampai 10.



Kartu Bilangan milik Chia.



10 adalah 4, 2, dan 4.



Kartu bilangan milik Dadang.



Ayo membuat 10 dengan kartu

2 Jika kamu membentuk bilangan 10, letakkan kartu-kartumu di meja.

Kartu siapa yang lebih mudah dihitung?

Tunjukkan kartumu kepada temanmu!



5 dan 5 menjadi 10.

