







Nama: _____

Kelas: _____

Padankan.

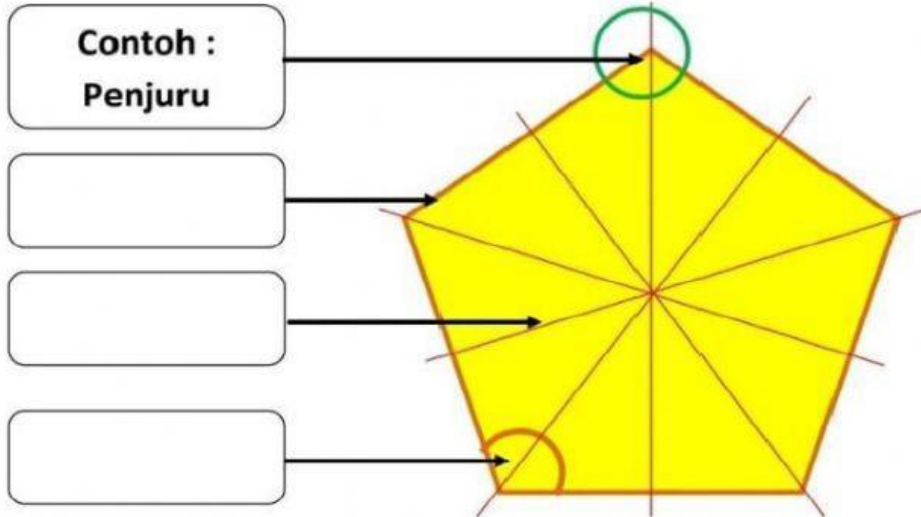
Bentuk







Nama poligon
Oktagon
Heptagon
Pentagon
Segi empat
Segi tiga
Heksagon

Ciri-ciri
7 sisi lurus 7 bucu 7 sudut
5 sisi lurus 5 bucu 5 sudut
8 sisi lurus 8 bucu 8 sudut
6 sisi lurus 6 bucu 6 sudut
4 sisi lurus 4 bucu 4 sudut
3 sisi lurus 3 bucu 3 sudut

Arahan : Pilih dan tarik jawapan masuk ke dalam petak.

1. Nama bentuk ini ialah . Ia mempunyai pepenjuru.



Pilihan jawapan



2. Nama bentuk ini ialah . Ia mempunyai pepenjuru.

