

Em điền tên đúng vào các ô sau:

.....

.....



VẬT LÝ 7 BÀI TẬP QUANG HỌC TÊN HS:.....




Xem video sau và trả lời câu hỏi:

Em điền vào
ô sau cho
biết tên hiện
tượng là gì



.....





Em kéo đáp án đúng vào ảnh sau

Trong bức tranh có
gương gì, và ảnh gì?

Gương phẳng;
ảnh ảo

Gương phẳng;
ảnh thật

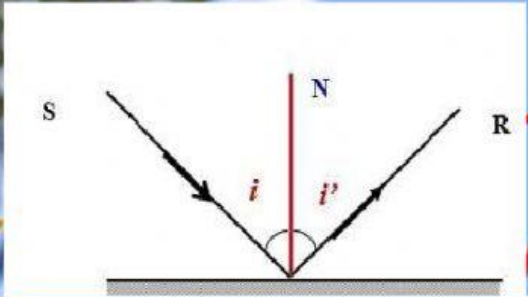
Gương cầu; ảnh
ảo





Em chọn đáp án đúng

2. Chiếu một tia tới lên gương phẳng. Biết góc tới bằng 45° . Hỏi góc phản xạ bằng bao nhiêu?



$i = 45^\circ$ $i' = ?$

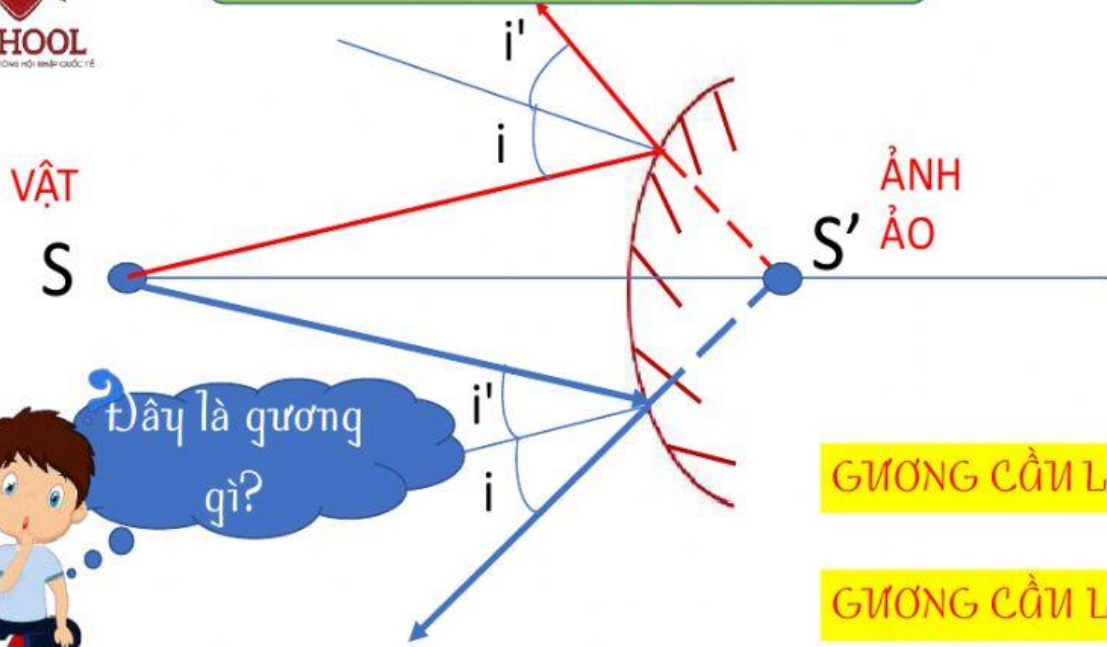
1. Theo định luật phản xạ ánh sáng $i' \dots ? \dots i$

Bằng

Lớn hơn



Em Tick vào đáp án đúng



GƯƠNG CẦU LỒM

GƯƠNG CẦU LỒI



iSCHOOL
HỆ THỐNG TRƯỜNG HỘI NHẬP QUỐC TẾ

Em Tick vào đáp án đúng

Mặt phản xạ của gương cầu lồi là:

A. Mặt lõm của một phần mặt cầu.

B. Mặt phẳng của gương phẳng.

C. Mặt lồi của một phần mặt cầu.

D. Cả A, B, C đều đúng.





iSCHOOL
HỆ THỐNG TRƯỜNG MỞ NHẬP QUỐC TẾ

Em Tick vào đáp án đúng

Chiếu một tia tới lên gương phẳng. Biết góc tới hợp với gương 60° . Hỏi góc phản xạ bằng bao nhiêu?

A. $- 30^\circ$

B. 90°

C. 30°

D. 60°