



PEMERINTAH KOTA MAKASAR
DINAS PENDIDIKAN DAN KEBUDAYAAN
UPT SPF SEKOLAH DASAR NEGERI MATTOANGIN II
Jl. KS. Tubun No. 1 Telp . (0411) 837994 Kode Pos 90121
Kelurahan Mattoangin Kecamatan Mariso



ULANGAN TENGAH SEMESTER GANJIL
TAHUN AJARAN 2021/2022

Tema /Subtema : 1 / 3 dan 4
Waktu : 90 Menit

Kelas : III (tiga)
Nama :

1. Pilihlah salah satu jawaban yang benar !

1. Tahapan nyamuk setelah dari telur adalah menjadi ...
 - a. Jentik
 - b. Nyamuk
 - c. pupa
 - d. Nyamuk dewasa
2. Berikut merupakan urutan daur hidup kupu-kupu adalah ...
 - a. Telur – ulat – kupu-kupu – kepompong
 - b. Telur – kepompong – ulat – kupu-kupu
 - c. Telur – ulat – kepompong - kupu-kupu
 - d. Kupu-kupu – kepompong – ulat – telur
3. Salah satu tumbuhan dibawah ini yang berkembang biak dengan tunas ...
 - a. jambu-cabai-kedelai
 - b. singkong – cocor bebek – jahe
 - c. Pohon pisang –rambutan- padi
 - d. Kacang tanah - mangga - durian
4. Dibawah ini yang bukan termasuk tumbuhan yang berkembang biak secara alami dengan biji adalah ...
 - a. pohon mangga
 - b. jeruk
 - c. semangka
 - d. bambu
5. Tumbuhan yang berkembang biak dengan tunas adalah ...
 - a. pohon rambutan
 - b. pohon jambu
 - c. Pohon bambu
 - d. Pohon jagung
6. 1. Ikan dapat bertelur sampai ribuan dalam sekali waktu.
2. Telur menetas menjadi larva.
3. Ikan mengalami pertumbuhan.
4. Ikan berkembang biak dengan cara bertelur.

5. ikan kecil menjadi ikan dewasa.

6. Larva tumbuh menjadi ikan kecil. Kemudian urutkan pekembang biakan ikan diatas ...

a. 4 - 1 - 2 - 6 - 5 - 3

c. 4 - 1 - 6 - 2 - 5 - 3

b. 4 - 1 - 2 - 5 - 6 - 3

d. 4 - 1 - 5 - 2 - 5 - 6

7.



Gambar disamping berkembang biak dengan cara..

a. Biji

c. umbi

b. Spora

d. Tunas

8.



gambar disamping berkembang biak dengan cara ...

a. Melahirkan

c. Membelah diri

b. Bertelur

d. spora

9. Hari ini Siti senang sekali. Kucing peliharaan Siti melahirkan 5 anak kucing yang lucu. Anak kucing yang dilahirkan memiliki warna yang berbeda. Tiga anak kucing berwarna putih seperti induknya. Satu anak kucing berwarna coklat. Satu anak kucing lainnya berwarna abu abu. apa warna anak kucing siti?

a. belang - abuabu dan putih

c. Putih - coklat dan puutih

b. coklat - abuabu - belang

d. Abu-abu - coklat dan putih

10. Menghargai dan menyayangi adalah termasuk pengamalan sila ke ...

a. 4

c. 3

b. 2

d. 5

11. Lambang sila kedua adalah ...

a. rantai

c. banteng

b. bintang

d. Beringin

12. Membersihkan lingkungan serta membuang benda-benda yang sudah tidak dipakai agar tidak dijadikan tempat berkembangbiakan nyamuk. adalah cara mencegah ...

- a. masuk angin
- b. amoeba
- c. Demam berdarah
- d. Diare

13.



gambar poster disamping menjelaskan tentang ...

- a. menjaga kebersihan lingkungan
- b. gotong royong
- c. kebersamaan
- d. Hidup bersih sebagai gaya hidup

14. Gambar disamping termasuk tumbuhan yang berkembang biak dengan ...

- a. Umbi lapis
- b. Umbi akar
- c. Umbi jalar
- d. Umbi batang



15. Siti memiliki 460 tangkai bunga anggrek. Siti ingin menyimpan dalam 4 buah vas bunga dengan banyak tangkai bunga yang sama pada masing-masing vas. Berapa banyak tangkai bunga anggrek pada setiap vas bunga?

- a. 113
- b. 114
- c. 115
- d. 116

16. Udin memiliki 3 ember berisi ikan hias. Setiap ember berisi 320 ekor. Berapa banyak ikan hias Udin semuanya?

- a. 940
- b. 950
- c. 960
- d. 970

17. Hasil perkalian 258×8 adalah ...

- a. 2.062
- b. 2.064
- c. 2.066
- d. 2.068

18. Seorang pekerja menghitung buah kelapa di truk pertama sebanyak 425 butir. Di truk kedua ada 590 butir buah kelapa. berapa banyak jumlah buah kelapa dari truk 1 dan 2?

- a. 1.015
- b. 1.016
- c. 1.017
- d. 1.018

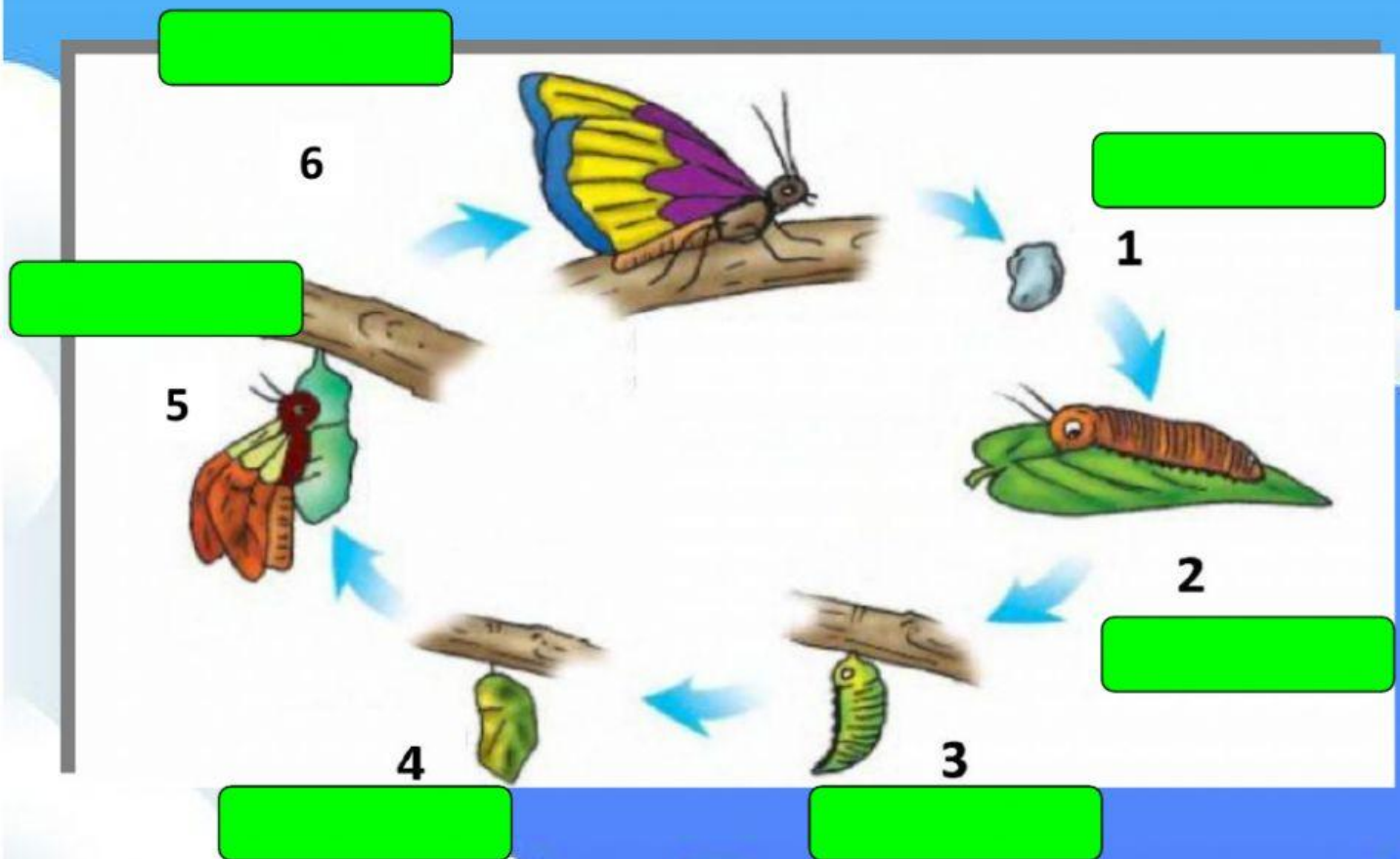
19. Hasil perbagian $330 : 3 =$ adalah

- a. 110
- b. 120
- c. 115
- d. 125

20. Siti membagi 153 biji salak kepada tiga orang temannya. Setiap anak mendapat biji salak sama banyak. Berapa banyak biji yang diterima setiap anak?

- a. 49
- b. 53
- c. 51
- d. 55

II. Sentuh tulisan yang ada didalam kotak kemudian tarik dan lepas tulis ke dalam kotak yang kosong



Telur

Kupu-kupu dewasa

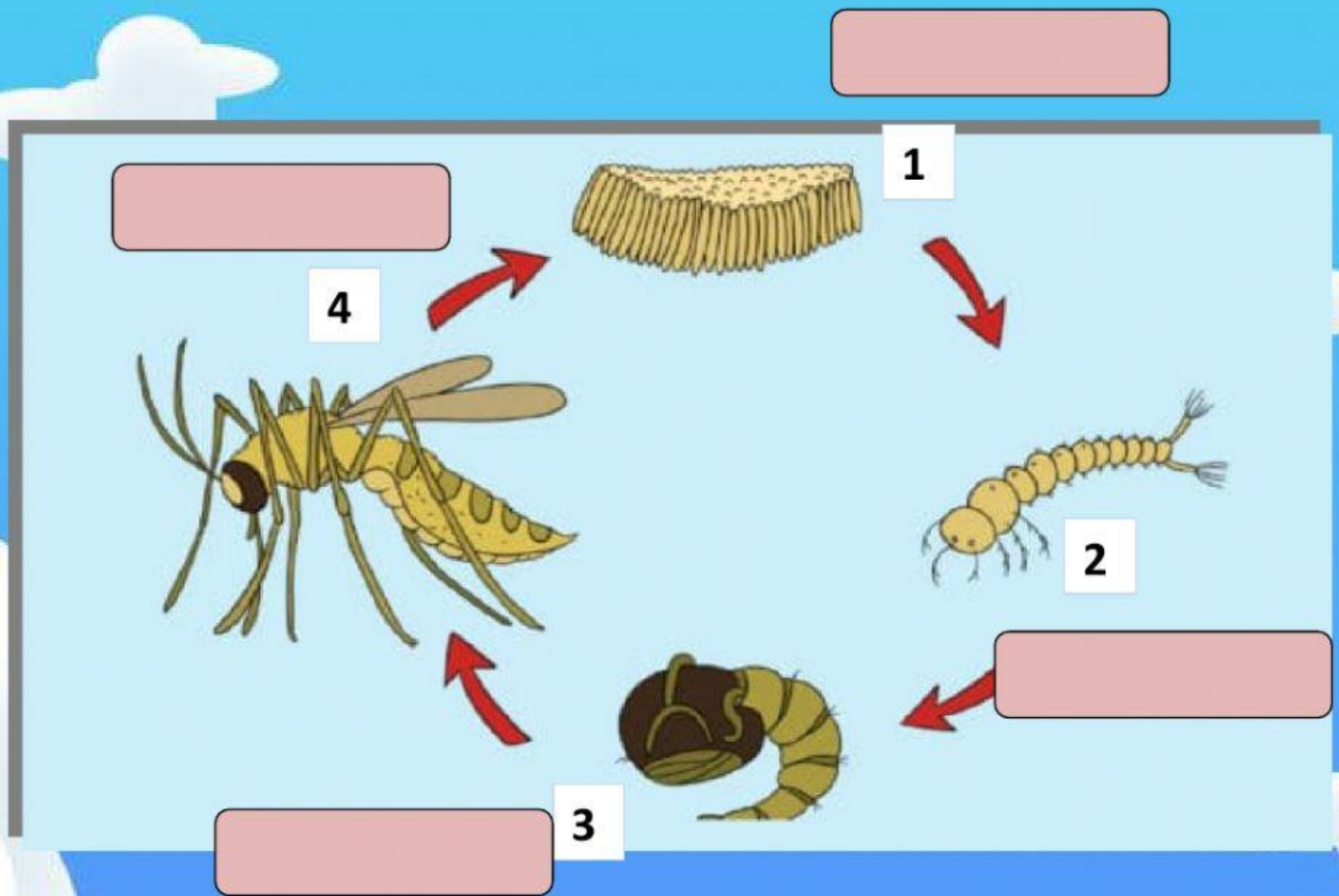
Kepompong

Ulat dewasa

Kupu-kupu muda

Ulat

Daur Hidup Nyamuk



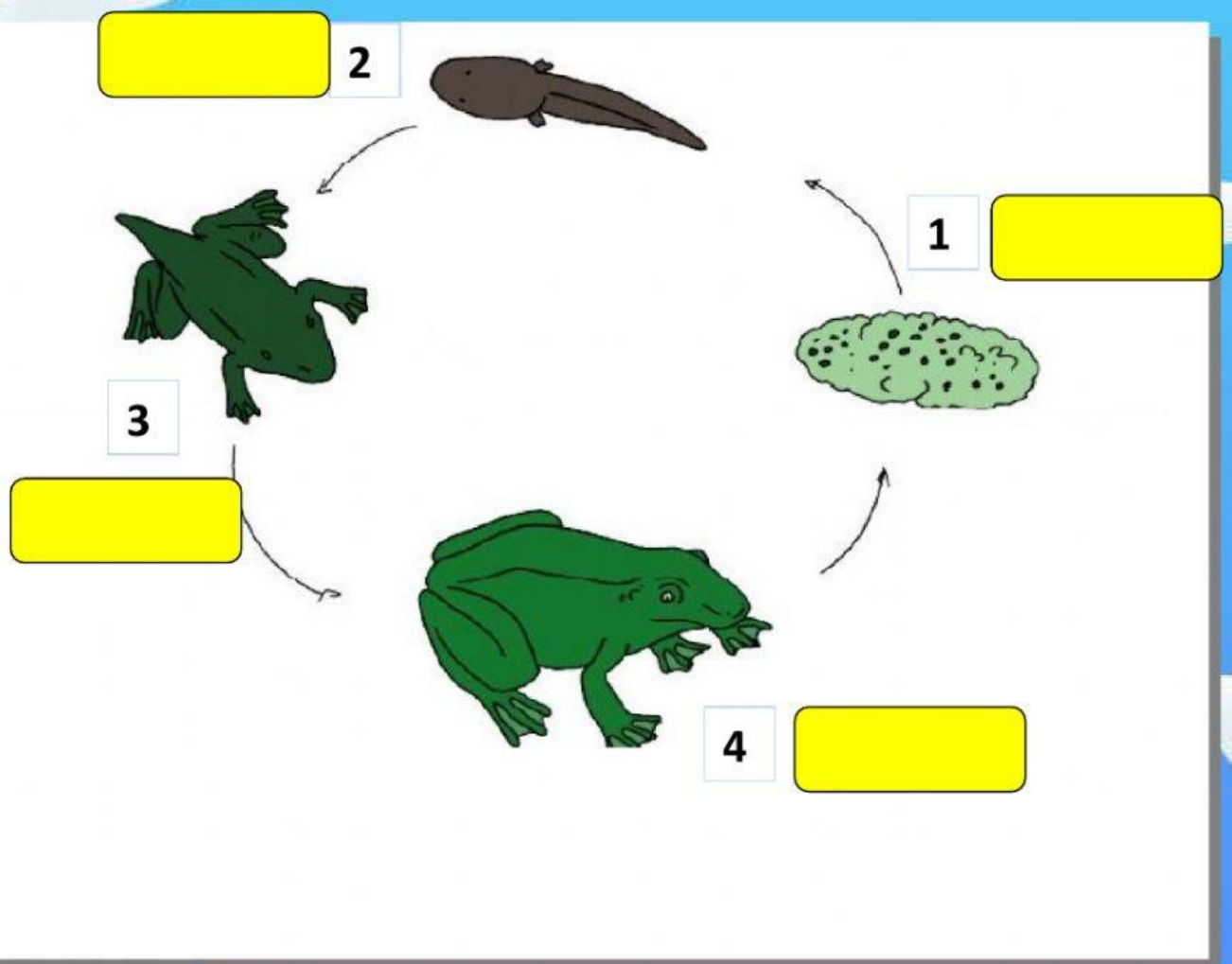
Telur nyamuk

Jentik nyamuk

Pupa

Nyamuk

Daur Hidup Katak



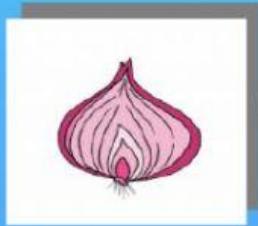
Berudu

Telur

Katak muda

Katak dewasa

III. Pasangkanlah gambar perkembang biakan hewan dan tumbuhan yang ada disebelah kiri dengan gambar yang ada disebelah kanan dengan cara menarik garis



Umbi lapis

melahirkan

stek

Tunas

Umbi batang

IV. Jawablah pertanyaan di bawah ini dengan satu kata saja.

1. Lambang dari Pancasila sila ke lima adalah
2. Sikap kamu ketika kamu melihat teman kamu terjatuh dari sepeda adalah.....
3. Manusia berkembang biak dengan cara
4. Cara berkembang biak pohon kelapa adalah
5. Bawang merah berkembangbiak dengan cara
6. Hewan yang mengakibatkan penyakit demam berdarah adalah
7. Daur hidup katak setelah telur adalah
8. Hasil perkalian 431×5 yaitu
9. Hasil dari $678 : 2$ adalah
10. Hewan yang memiliki daur hidup kepompong adalah.....

SELAMAT MENGERJAKAN

