


Tên: .....

Lớp: .....

### PHIẾU BÀI TẬP

**Bài 1:** Điền dấu >, <, = thích hợp




4 .....4




3 .....3



2 .....3



**Bài 2:** Bạn rùa đỏ chạy vào đứng giữa rùa xanh và rùa vàng. Khi đó rùa nâu xếp thứ ..... trong hàng?



**Bài 3:** Có 3 bạn thỏ đang chơi thì trời mưa, các bạn chạy vào trong cả hai chuồng. Hỏi mỗi chuồng có mấy bạn thỏ? Biết rằng **số thỏ ở chuồng A nhiều hơn số thỏ ở chuồng B.**



Số thỏ ở chuồng A là.....bạn thỏ

Số thỏ ở chuồng B là.....bạn thỏ