



PHIẾU BÀI TẬP TOÁN TUẦN 3

Bài 1: SỐ?











Bài 2: Chọn số thích hợp



6

7

8



7

8

9



8

9

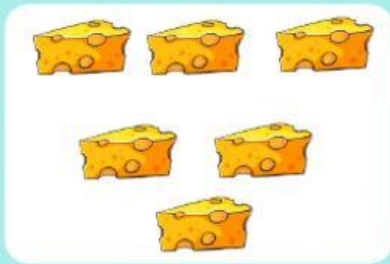
10



7

8

9



6

7

8

Bài 3: Kéo số vào ô tương ứng với số bông hoa

10

8

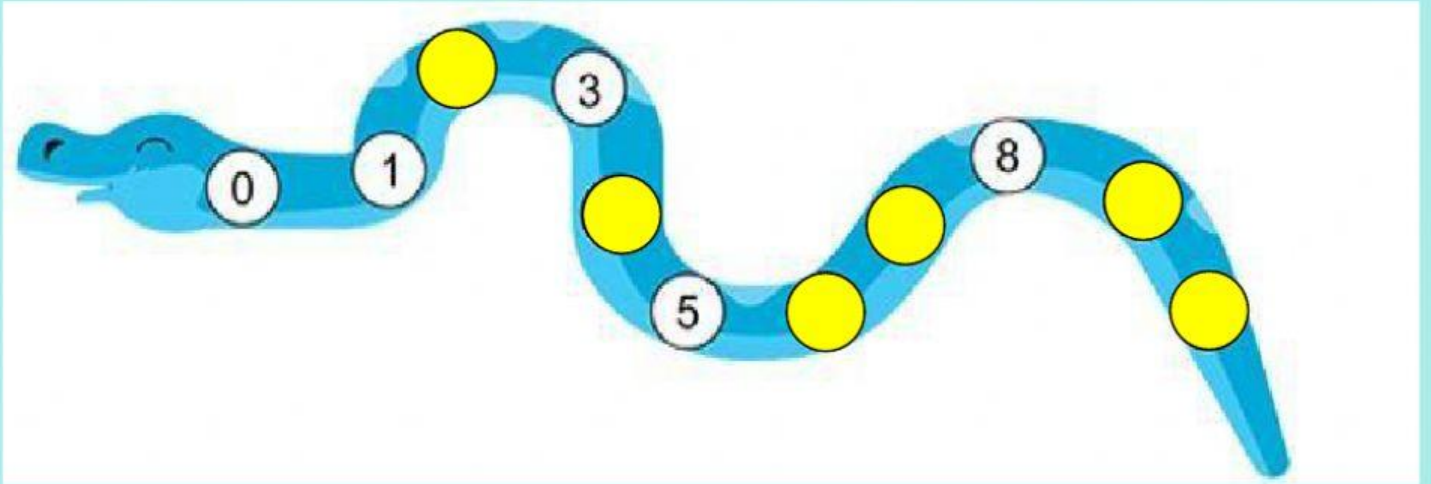
9

7

6

<input type="text"/>	
<input type="text"/>	
<input type="text"/>	
<input type="text"/>	
<input type="text"/>	

Bài 4: Điền số thích hợp vào ô trống



Bài 5: Xếp các toa tàu theo thứ tự từ lớn đến bé

