



Họ và tên:.....

MÔN TOÁN
Ôn tập tuần 2


Bài 1: Đếm và nhấn chọn đáp án đúng:




2 3 4 5 6



2 3 4 5 6



2 3 4 5 6



2 3 4 5 6

Bài 2. Đếm và nối:



5
4
2
3
6
0


Bài 3: Đếm và điền số

□
□
□

□
□
□

Bài 4: . Em hãy giúp bạn Thỏ tìm đường đến được với củ cà rốt bằng cách nối các số từ 1 đến 10 nhé!

9	3	6	1		
4	2	5	2		
7	0	2	3	4	5
5	8	4	8	7	6
		10	9	2	9
		7	4	8	4

 Thư viện tiêu học - Ươm mầm tương lai

Bài 5: Điền số còn thiếu vào dãy sau:

