




ชื่อ-นามสกุล

เลขที่

ใบงานที่ 1

เรื่อง ชนิดของสามเหลี่ยม

ให้นักเรียนจำแนกสามเหลี่ยมโดยใช้ขนาดของมุมเป็นเกณฑ์ พร้อมทั้งระบุเหตุผล



เพราะ




เพราะ



เพราะ



เพราะ



เพราะ




เพราะ



เพราะ



เพราะ



เพราะ

