

แบบฝึกเพื่อพัฒนาทักษะการคิดเลขเร็ว

ชั้นประถมศึกษาปีที่ 2

เรื่อง

การบวกและการลบจำนวนสองจำนวนที่มีผลลัพธ์และตัวตั้งไม่เกิน 20



ชื่อ.....

เลขที่.....ห้อง.....

โรงเรียน.....

การบวกและการลบจำนวนสองจำนวนที่มีผลลัพธ์และตัวตั้งไม่เกิน 20

ชื่อ.....ชั้น.....เลขที่.....

คำชี้แจง : จงหาผลลัพธ์



$$\begin{array}{r} 1. \quad 5 \\ \quad 4^+ \\ \hline \end{array}$$

$$\begin{array}{r} 2. \quad 17 \\ \quad 0^- \\ \hline \end{array}$$

$$\begin{array}{r} 3. \quad 5 \\ \quad 0^+ \\ \hline \end{array}$$

$$\begin{array}{r} 4. \quad 3 \\ \quad 0^+ \\ \hline \end{array}$$

$$\begin{array}{r} 5. \quad 18 \\ \quad 9^- \\ \hline \end{array}$$

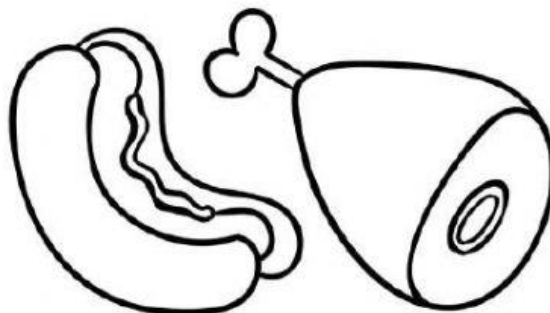
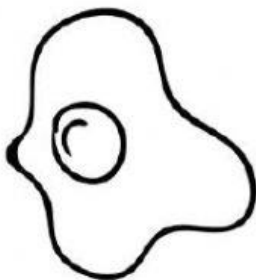
$$\begin{array}{r} 6. \quad 8 \\ \quad 3^- \\ \hline \end{array}$$

$$\begin{array}{r} 7. \quad 2 \\ \quad 14^+ \\ \hline \end{array}$$

$$\begin{array}{r} 8. \quad 16 \\ \quad 9^- \\ \hline \end{array}$$

$$\begin{array}{r} 9. \quad 12 \\ \quad 6^- \\ \hline \end{array}$$

$$\begin{array}{r} 10. \quad 6 \\ \quad 9^+ \\ \hline \end{array}$$



*ใช้เพื่อการศึกษาเท่านั้น

การบวกและการลบจำนวนสองจำนวนที่มีผลลัพธ์และตัวตั้งไม่เกิน 20

ชื่อ.....ชั้น.....เลขที่.....

คำชี้แจง : จงหาผลลัพธ์



$$\begin{array}{r} 1. \quad 7 \\ \quad 2^+ \\ \hline \square \end{array}$$

$$\begin{array}{r} 2. \quad 9 \\ \quad 2^- \\ \hline \square \end{array}$$

$$\begin{array}{r} 3. \quad 13 \\ \quad 0^+ \\ \hline \square \end{array}$$

$$\begin{array}{r} 4. \quad 15 \\ \quad 5^- \\ \hline \square \end{array}$$

$$\begin{array}{r} 5. \quad 9 \\ \quad 9^- \\ \hline \square \end{array}$$




$$\begin{array}{r} 6. \quad 13 \\ \quad 6^- \\ \hline \square \end{array}$$

$$\begin{array}{r} 7. \quad 16 \\ \quad 3^+ \\ \hline \square \end{array}$$

$$\begin{array}{r} 8. \quad 5 \\ \quad 14^+ \\ \hline \square \end{array}$$

$$\begin{array}{r} 9. \quad 8 \\ \quad 6^- \\ \hline \square \end{array}$$

$$\begin{array}{r} 10. \quad 13 \\ \quad 0^+ \\ \hline \square \end{array}$$



*ใช้เพื่อการศึกษาเท่านั้น

การบวกและการลบจำนวนสองจำนวนที่มีผลลัพธ์และตัวตั้งไม่เกิน 20

ชื่อ.....ชั้น.....เลขที่.....

คำชี้แจง : จงหาผลลัพธ์



$$\begin{array}{r} 1. \ 20 \\ \quad 2^- \\ \hline \end{array}$$

$$\begin{array}{r} 2. \ 9 \\ \quad 2^+ \\ \hline \end{array}$$

$$\begin{array}{r} 3. \ 13 \\ \quad 0^- \\ \hline \end{array}$$

$$\begin{array}{r} 4. \ 15 \\ \quad 5^+ \\ \hline \end{array}$$

$$\begin{array}{r} 5. \ 9 \\ \quad 9^+ \\ \hline \end{array}$$



$$\begin{array}{r} 6. \ 13 \\ \quad 6^+ \\ \hline \end{array}$$

$$\begin{array}{r} 7. \ 16 \\ \quad 3^- \\ \hline \end{array}$$

$$\begin{array}{r} 8. \ 15 \\ \quad 14^- \\ \hline \end{array}$$

$$\begin{array}{r} 9. \ 8 \\ \quad 6^+ \\ \hline \end{array}$$

$$\begin{array}{r} 10. \ 18 \\ \quad 9^- \\ \hline \end{array}$$



*ใช้เพื่อการศึกษาเท่านั้น

การบวกและการลบจำนวนสองจำนวนที่มีผลลัพธ์และตัวตั้งไม่เกิน 20

ชื่อ.....ชั้น.....เลขที่.....

คำชี้แจง : จงหาผลลัพธ์



$$\begin{array}{r} 1. \quad 5 \\ + \quad 4 \\ \hline \square \end{array}$$

$$\begin{array}{r} 2. \quad 17 \\ - \quad 0 \\ \hline \square \end{array}$$

$$\begin{array}{r} 3. \quad 9 \\ + \quad 9 \\ \hline \square \end{array}$$

$$\begin{array}{r} 4. \quad 13 \\ - \quad 8 \\ \hline \square \end{array}$$

$$\begin{array}{r} 5. \quad 17 \\ + \quad 2 \\ \hline \square \end{array}$$



$$\begin{array}{r} 6. \quad 8 \\ - \quad 3 \\ \hline \square \end{array}$$

$$\begin{array}{r} 7. \quad 2 \\ + \quad 14 \\ \hline \square \end{array}$$

$$\begin{array}{r} 8. \quad 6 \\ + \quad 9 \\ \hline \square \end{array}$$

$$\begin{array}{r} 9. \quad 12 \\ - \quad 2 \\ \hline \square \end{array}$$

$$\begin{array}{r} 10. \quad 16 \\ - \quad 9 \\ \hline \square \end{array}$$



ชุดที่
6

แบบฝึก

เพื่อพัฒนาทักษะการคิดเลขเร็ว
ชั้นประถมศึกษาปีที่ 2

หน้าที่
5

การบวกและการลบจำนวนสองจำนวนที่มีผลลัพธ์และตัวตั้งไม่เกิน 20

ชื่อ.....ชั้น.....เลขที่.....

คำชี้แจง : จงหาผลลัพธ์



1.
$$\begin{array}{r} 15 \\ + 2 \\ \hline \end{array}$$

2.
$$\begin{array}{r} 9 \\ - 2 \\ \hline \end{array}$$

3.
$$\begin{array}{r} 13 \\ - 0 \\ \hline \end{array}$$

4.
$$\begin{array}{r} 15 \\ - 5 \\ \hline \end{array}$$

5.
$$\begin{array}{r} 9 \\ + 9 \\ \hline \end{array}$$


6.
$$\begin{array}{r} 13 \\ - 6 \\ \hline \end{array}$$

7.
$$\begin{array}{r} 16 \\ + 3 \\ \hline \end{array}$$

8.
$$\begin{array}{r} 5 \\ + 14 \\ \hline \end{array}$$

9.
$$\begin{array}{r} 8 \\ - 6 \\ \hline \end{array}$$

10.
$$\begin{array}{r} 13 \\ + 6 \\ \hline \end{array}$$



*ใช้เพื่อการศึกษาเท่านั้น