



**YAYASAN PUPUK KALTIM
SD 1 YPK
"TERAKREDITASI A"**

Alamat : Jl.Sakura PC VI PKT (0548)23773,3046538 Ext. 6729 Kel.Belimbing, Kec. Bontang Barat – Kaltim
www.sd1ypkbontang.sch.id email: sd1ypkbtgkaltim@yahoo.com

**LEMBAR KERJA PESERTA DIDIK
(LKPD)
TEMA 6 ENERGI DAN PERUBAHANNYA**

Hari/ Tanggal : _____ Kelas / Semester : III / 2 (dua)
Nama : _____ Kelas / No Absen : ____ / ____






PPKn

KD:

Pilihlah jawaban yang paling tepat!

- Kewajiban anak terhadap orang tua dan guru di sekolah adalah...
 - mendidik
 - menghormati
 - mengajar
- Kewajiban yang harus dilakukan terhadap pakaian yang kita miliki adalah...
 - mencoret-coret
 - merawat pakaian
 - menggantung-gunting pakaian
- Air di bak mandi sudah penuh,keran air masih menyala. Kewajiban kita adalah...
 - membiarkan tetap menyala
 - mengadu kepada ibu
 - mematikan keran

Hubungkan bunyi sila dengan simbol yang tepat dengan cara menarik garis!


Kemanusiaan yang adil dan beradab	
Ketuhanan yang Maha Esa	
Persatuan Indonesia	
Keadilan sosial bagi seluruh rakyat Indonesia	
Kerakyatan yang dipimpin oleh hikmat kebijaksanaan dalam permusyawaratan/perwakilan	


BIN


KD:

Gunakan kata dalam kotak "Daftar Kata" untuk mengisi teka-teki silang


Mendatar


2. 


3. 


6. 

Menurun

1. 


4. 

5. 

7. 

Daftar Kata

kaki mata
rambut tangan
mulut hidung
bibir



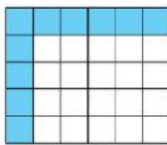
Carilah 3 nama benda yang terdapat di dapur!

T	I	P	E	J	N	E	P	I	R	I	N	G	N	A	R	A	P	R
E	A	C	I	R	E	M	A	R	A	G	U	P	A	N	C	I	N	A
R	A	K	K	E	B	O	C	U	I	G	A	A	J	O	L	C	A	U
M	E	R	A	K	A	M	E	R	I	C	A	R	A	L	I	N	P	P
O	B	R	O	P	M	O	K	U	L	K	A	S	W	A	M	A	M	R
S	E	L	P	O	T	I	M	L	O	I	G	A	N	G	O	P	A	A
P	L	I	R	R	E	S	N	E	P	S	I	D	A	N	D	A	N	G
K	U	M	I	I	P	O	K	T	E	R	B	A	N	G	I	J	O	N
C	A	N	G	K	I	R	A	S	B	U	M	B	U	G	N	A	R	A

MAT KD:

3.8 Isilah!

1.



Luas bangun disamping adapersegi satuan.

	<input type="text"/>	cm
	<input type="text"/>	cm
	<input type="text"/>	cm
	<input type="text"/>	cm

Beri tanda centang sesuai


	<input type="checkbox"/> 6:00		<input type="checkbox"/> 2:00
	<input type="checkbox"/> 7:00		<input type="checkbox"/> 3:00
	<input type="checkbox"/> 8:00		<input type="checkbox"/> 4:00
	<input type="checkbox"/> 9:00		<input type="checkbox"/> 5:00
	<input type="checkbox"/> 7:00		<input type="checkbox"/> 7:00
	<input type="checkbox"/> 8:00		<input type="checkbox"/> 8:00
	<input type="checkbox"/> 9:00		<input type="checkbox"/> 9:00
	<input type="checkbox"/> 10:00		<input type="checkbox"/> 10:00
	<input type="checkbox"/> 11:00		<input type="checkbox"/> 1:00
	<input type="checkbox"/> 12:00		<input type="checkbox"/> 2:00
	<input type="checkbox"/> 13:00		<input type="checkbox"/> 3:00
	<input type="checkbox"/> 14:00		<input type="checkbox"/> 4:00

Isilah!

3	x		=	24		
	+					
	7					
	=					
	x	3	=			
	:					
		x	7	=		
	=					
12	-		=	5		
:						
		9	x		=	36
	:					
2		15	x		=	45
	=					
		3	x		=	81
	:					
		16	-		=	9
	=					

SBdP KD :

Pilihlah gambar yang sesuai!



Pilih benar atau salah!



Benar

salah



Benar

Salah

Ucapkan sesuai gambar!

