


Họ và tên:.....

**BÀI KIỂM TRA THƯỜNG XUYÊN
MÔN KHOA HỌC TỰ NHIÊN 6**

Lớp:.....

ĐỀ BÀI

Câu 1 (2đ): Hãy cho biết GHĐ và ĐCNN của thước trên hình dưới đây:

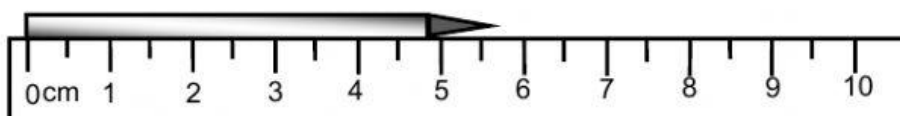


GHĐ:


ĐCNN:

Câu 2: (2đ)

- Quan sát hình H.1 và H.2 em hãy cho biết giới hạn đo và độ chia nhỏ nhất của mỗi thước.
- Dùng hai thước này để đo độ dài của cùng một vật. Hãy ghi lại kết quả đo.
- Theo em thì thước nào đo chính xác hơn?



Hình H.1




Hình H. 2

- Thước 1: GHĐ: ĐCNN:
Thước 2: GHĐ: ĐCNN:
- Thước 1:
Thước 2:
- Thước đo chính xác hơn.

Câu 3: (2đ) Hãy cho biết :

- Giới hạn đo và độ chia nhỏ nhất của thước ở hình dưới đây là bao nhiêu ?
- Chiều dài của bút chì là bao nhiêu ?



- GHĐ: ĐCNN:
- Chiều dài cây bút chì là

Câu 4:(2đ)



- a) Giới hạn đo và độ chia nhỏ nhất của thước?
- b) Độ dài của cây bút chì là bao nhiêu?
- a) GHĐ: ĐCNN:
- b) Độ dài cây bút chì là :

Câu 5: (2đ) Xác định GHĐ và ĐCNN của cân

GHĐ=

ĐCNN=

