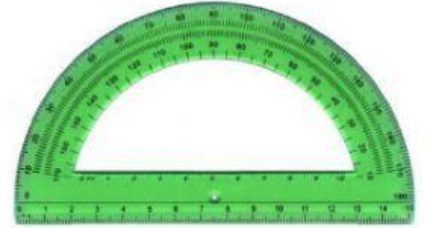





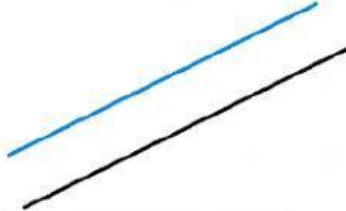
RECTAS Y ÁNGULOS



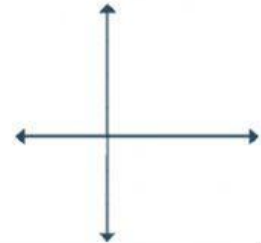
1. Une la recta con el nombre que le corresponda



PERPENDICULARES

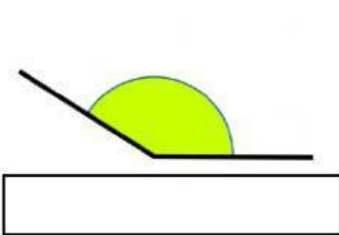


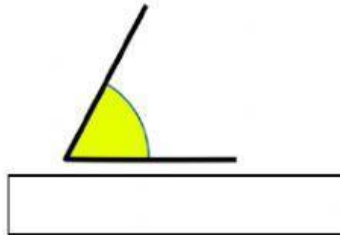
SECANTES

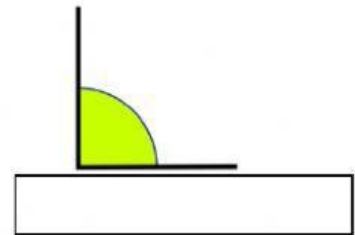


PARALELAS

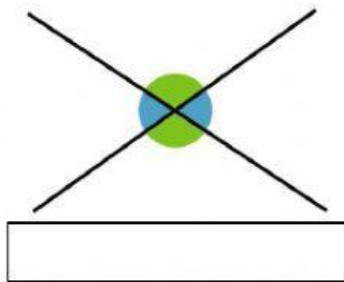
2. Escribe el nombre de los siguientes ángulos.

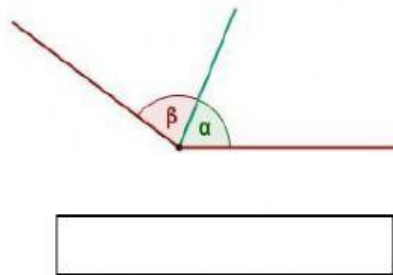


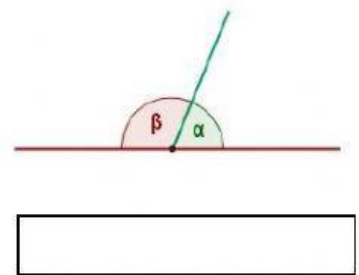




3. Selecciona el nombre del ángulo según su posición.







4. Contesta a las siguientes preguntas:

- Las rectas perpendiculares forman 4 ángulos:

- El punto sirve para dividir una recta en dos:

- La parte de una recta comprendida entre dos puntos es un: