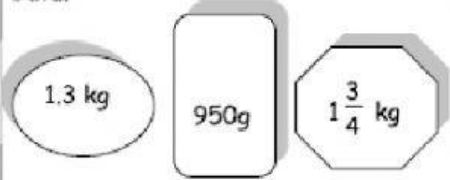






NAMA: _____

KELAS: _____

PENYELESAIAN MASALAH:

| <p>1</p> | <p>Rajah 1 menunjukkan berat beberapa jenis batu.</p>  <p style="text-align: center;">RAJAH 1</p> <p>Berapakah berat, dalam g, semua batu itu?</p> | <p>Jumlah berat batu:  +  + </p> $1.3 \text{ kg} + 950 \text{ g} + 1\frac{3}{4} \text{ kg}$ $= \boxed{} \text{ g} + \boxed{} \text{ g} + \boxed{} \text{ g}$ $= \boxed{} \text{ g}$ <table border="1" data-bbox="916 696 1187 927"> <thead> <tr> <th></th> <th>kg</th> <th>g</th> </tr> </thead> <tbody> <tr><td></td><td></td><td></td></tr> <tr><td></td><td></td><td></td></tr> <tr><td></td><td></td><td></td></tr> <tr><td>+</td><td></td><td></td></tr> <tr><td></td><td></td><td></td></tr> </tbody> </table> <p>● Berat semua batu itu sebanyak _____ g.</p> | | kg | g | | | | | | | | | | + | | | | | |
|----------|--|---|--|----|---|--|--|--|--|--|--|--|--|--|---|--|--|--|--|--|
| | kg | g | | | | | | | | | | | | | | | | | | |
| | | | | | | | | | | | | | | | | | | | | |
| | | | | | | | | | | | | | | | | | | | | |
| | | | | | | | | | | | | | | | | | | | | |
| + | | | | | | | | | | | | | | | | | | | | |
| | | | | | | | | | | | | | | | | | | | | |
| <p>2</p> | <p>2. Rajah 2 menunjukkan berat sebuah kotak.</p>  <p style="text-align: center;">RAJAH 2</p> <p>Berat bola itu ialah 650 g. Berapakah berat, dalam g, kotak itu?</p> | <p>Jumlah berat kotak dan bola: <input type="text"/> kg</p> <p>Berat bola: <input type="text"/> g</p> <p>Berat kotak = Jumlah berat kotak dan bola - Berat bola</p> $= \boxed{} \text{ kg} - \boxed{} \text{ g}$ $= \boxed{} \text{ g}$ <table border="1" data-bbox="916 1420 1187 1610"> <thead> <tr> <th></th> <th>kg</th> <th>g</th> </tr> </thead> <tbody> <tr><td></td><td></td><td></td></tr> <tr><td></td><td></td><td></td></tr> <tr><td></td><td></td><td></td></tr> <tr><td>-</td><td></td><td></td></tr> <tr><td></td><td></td><td></td></tr> </tbody> </table> <p>● Berat kotak itu sebanyak _____ g.</p> | | kg | g | | | | | | | | | | - | | | | | |
| | kg | g | | | | | | | | | | | | | | | | | | |
| | | | | | | | | | | | | | | | | | | | | |
| | | | | | | | | | | | | | | | | | | | | |
| | | | | | | | | | | | | | | | | | | | | |
| - | | | | | | | | | | | | | | | | | | | | |
| | | | | | | | | | | | | | | | | | | | | |