


**CLC SABAH TEA-TKB PERMATA LOHAN**  
**PENILAIAN TENGAH SEMESTER TAHUN PELAJARAN 2021/2022**  
**PTS KELAS 1 TEMA 1 SESI 2**

Nama :  
Kelas :  
Menit

Hari, Tanggal :  
Waktu : 90

**A. Soal Pilihan Ganda**

***Pilihlah salah satu jawaban yang paling tepat!***



Banyak penggaris ada ....




- a. 3
- b. 4
- c. 5



Banyak pensil ada ....

- a. 8
- b. 7
- c. 6

3. Banyak benda yang menunjukkan bilangan 5 adalah ....

- a. 
- b. 
- c. 

4. Nama bilangan 3 adalah ....

- a. dua
- b. tiga
- c. empat




5. Nama bilangan 1 adalah ....

- a. tiga
- b. dua
- c. satu

6. Lambang bilangan 4 dibaca ....

- a. lima
- b. empat
- c. tiga

7. Jumlah pasta gigi yang paling banyak adalah ....

- a. 
- b. 
- c. 

8. Cici akan mengurutkan kartu dari angka yang terbesar.  
Urutan kartu yang benar adalah ....




- a. 

2	4	6	8
---	---	---	---
- b. 

8	6	4	3
---	---	---	---
- c. 

9	7	3	5
---	---	---	---

9. Jumlah sabun mandi yang paling sedikit adalah ....

- a. 
- b. 
- c. 

10. Ibu menggoreng 6 ikan.

Lalu, ibu menggoreng 3 ikan lagi.

Jumlah ikan yang digoreng ibu adalah ....

- a. 10
- b. 9
- c. 8

11. Pengurangan yang hasilnya 2 adalah ....


- a.  $5 - 2$
- b.  $5 - 3$
- c.  $5 - 4$

12. 

Banyaknya apel ada ...

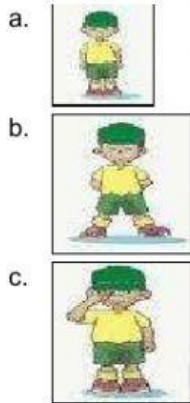
- a. 2
- b. 3
- c. 4

13. Berjalan berpasangan dilakukan oleh ... orang
- satu
  - dua
  - tiga



Andi berjalan ke depan.  
Posisi awal tangan Andi berada di ....

- depan badan
  - samping badan
  - belakang badan
15. Berdiri siap ditunjukkan pada gambar ....



16. Berjalan di atas balok titian membutuhkan ....
- kelenturan
  - keseimbangan
  - kelincahan
17. Bagian tubuh yang tidak boleh disentuh orang lain adalah ....
- tangan
  - dada
  - pundak
18. Langkah selanjutnya setelah kita mengucek pakaian adalah ....
- memisahkan pakaian putih dan berwarna
  - membilas pakaian dengan air bersih
  - menjemur pakaian agar kering
19. Selain mengikuti irama lagu, kita juga bisa bergerak sesuai ....
- petunjuk
  - hitungan
  - aturan

20. Cara mengeringkan daun dan bunga adalah diletakkan di ... buku.
- atas
  - antara halaman
  - samping

**Soal Isian**

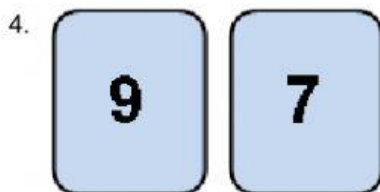
1. Banyak huruf pada kata *kebersihan* ada ....



Banyak buku ada ....



Lambang bilangan dari banyak tempat sampah adalah ....



Bilangan yang lebih besar adalah ....

5. Hasil dari  $5 + 2$  adalah ....
6. Gerakan berjalan lebih ... daripada gerakan berlari.
7. Sikap awal badan kita saat berdiri istirahat adalah ....
8. Merendam pakaian dilakukan dengan menggunakan ... yang diberi detergen.
9. Buku gambar digunakan sebagai alat untuk ....
10. Bunyi yang berasal dari kegiatan manusia disebut ...