

Họ và tên:
Lớp:

TOÁN – LUYỆN TẬP CHUNG

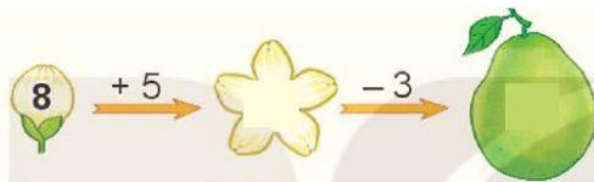


1 Số?

a)

Số hạng	2	3	4	5	6	7	8
Số hạng	9	8	9	7	6	8	5
Tổng	11						

b)



2 Hai quạt nào có chung ổ cắm điện?



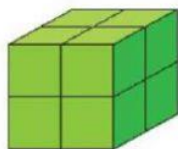
3 a) Toa tàu nào dưới đây ghi phép tính có kết quả lớn nhất?



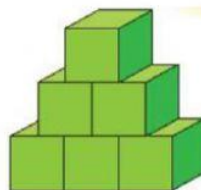
b) Toa tàu nào dưới đây ghi phép tính có kết quả bé hơn 15?



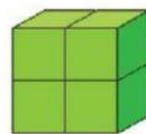
4 Một bạn đã xếp các khối lập phương nhỏ thành ba hình A, B, C (như hình vẽ).



A



B



C

a) Hình  có số khối lập phương nhỏ nhiều nhất.

b) Hình A và B có tất cả  khối lập phương nhỏ.

Chúc mừng con đã hoàn thành bài!