

I numeri relativi e gli insiemi numerici

Scegli la risposta corretta

Se la temperatura cresce da -15°C a $+5^{\circ}\text{C}$, qual è l'aumento di temperatura avvenuto?

- A -10°C
- B 10°C
- C 20°C
- D 25°C

Il valore di $(3 - 4) - (5 - 6)$ è

Vero o Falso ?

La somma di due numeri opposti è 0	Vero	Falso
La somma di due numeri negativi è un numero positivo	Vero	Falso
Il prodotto di due numeri negativi è negativo	Vero	Falso
Il quoziente di due numeri discordi è negativo	Vero	Falso

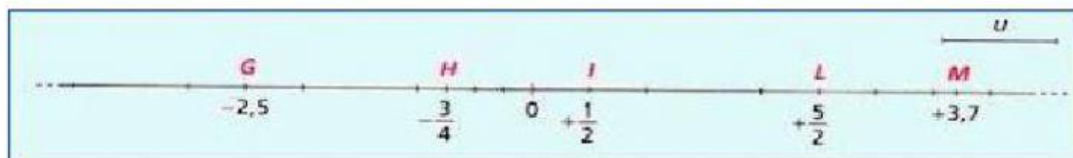
Collega ad ogni operazione il risultato corretto

$(-3) + (+5) =$	- 1
$(-5) - (-4) =$	- 8
$(-2) * (+4) =$	+ 2
$(+16) : (+2) =$	+ 8

Completa con il valore corretto le seguenti operazioni

- $(+3) * (\dots) = +15$
- $(\dots) * (-3) + 4 = +10$
- $(-25) : (\dots) = +5$
- $(+6) * (-4) * (\dots) = +48$

Osserva la retta numerica e rispondi alle domande



$G > -1$

VERO

FALSO

$H < 0$

VERO

FALSO

$I > G$

VERO

FALSO

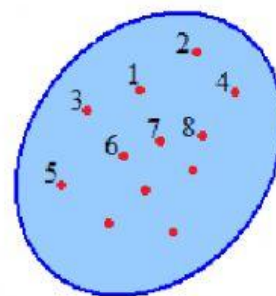
$L < M$

VERO

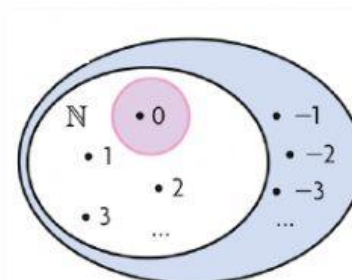
FALSO

Abbina la definizione all' immagine corrispondente

INSIEME DEI NUMERI
RAZIONALI



INSIEME DEI NUMERI
NATURALI



INSIEME DEI NUMERI
RELATIVI

