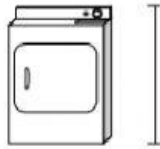


Nome: _____

Data: _____

Oficina de Matemática - Year 3

1)



Máquina de lavar

- a) 15 cm
- b) 1 m
- c) 60 cm
- d) 25 cm

2)



Montanha

- a) 3 km
- b) 700 km
- c) 60 cm
- d) 9 m

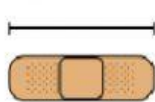
3)



Skate

- a) 80 cm
- b) 3 cm
- c) 2 m
- d) 30 cm

4)



Curativo adesivo

- a) 3 km
- b) 60 cm
- c) 1 m
- d) 9 cm

5)



Maçã

- a) 3 cm
- b) 1 m
- c) 2 m
- d) 10 cm

6)



Lata de ervilha

- a) 120 cm
- b) 2 km
- c) 2m
- d) 10 cm

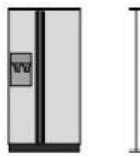
7)



Roda gigante

- a) 50 km
- b) 23 m
- c) 30 cm
- d) 5 m

8)



Refrigerador

- a) 5km
- b) 180 cm
- c) 4m
- d) 30 cm

9)



Armário de arquivo

- a) 30 cm
- b) 60 cm
- c) 150 cm
- d) 30 km