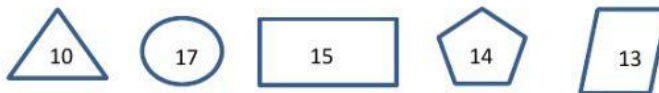




Nama :

Kelas :

Latihan Matematika

1. Berilah tanda centang (✓) pada pernyataan perbandingan bilangan berikut!
(jawaban lebih dari satu)



A		Lebih besar dari		<input type="checkbox"/>
B		Sama banyak dengan		<input type="checkbox"/>
C		Lebih kecil dari		<input type="checkbox"/>
D		Lebih besar dari		<input type="checkbox"/>

2. Jodohkanlah urutan bilangan dari yang terkecil ke terbesar dan dari yang terbesar ke terkecil!
(jawaban lebih dari satu)

Bilangan dari terkecil	<input type="checkbox"/> 8, 6, 4, 2
	<input type="checkbox"/> 3, 6, 8, 9
Bilangan dari terbesar	<input type="checkbox"/> 5, 8, 3, 10
	<input type="checkbox"/> 9, 6, 5, 2