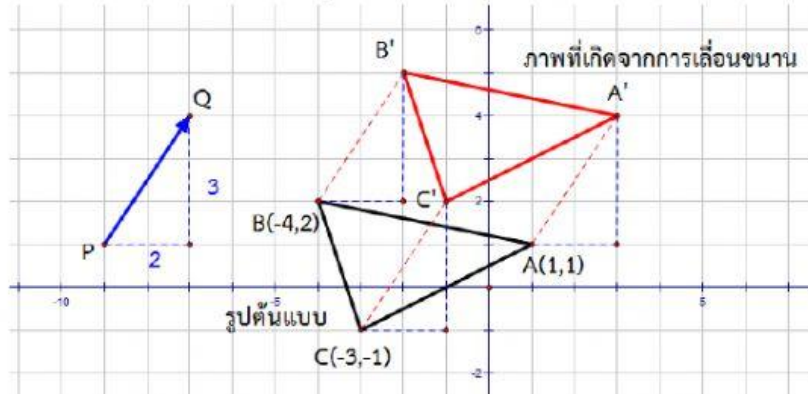


ใบงานที่ 4 เรื่อง การเลื่อนขนานในระบบพิกัดฉาก



จุดประสงค์ ระบุพิกัดและอธิบายลักษณะรูปร่างชนิดที่เกิดขึ้นจากการเลื่อนขนานบนระนาบในระบบพิกัดฉากได้

1. ภาพต่อไปนี้เกิดจากการเลื่อนขนานรูปต้นแบบ ตาม \overline{PQ} ซึ่งเป็นเวกเตอร์ของการเลื่อนขนาน



1.1 จากจุด $A(1,1)$ เลื่อนจุด A ไปทางขวาตามแนวแกน x 2 หน่วย และเลื่อนขึ้นไปตามแนวแกน Y 3 หน่วย จะได้จุด A' มีพิกัดเป็น $(3, 4)$

จากจุด $B(-4,2)$ เลื่อนจุด B ไปทางขวาตามแนวแกน x 2 หน่วย และ.....

..... จะได้จุด B' มีพิกัดเป็น

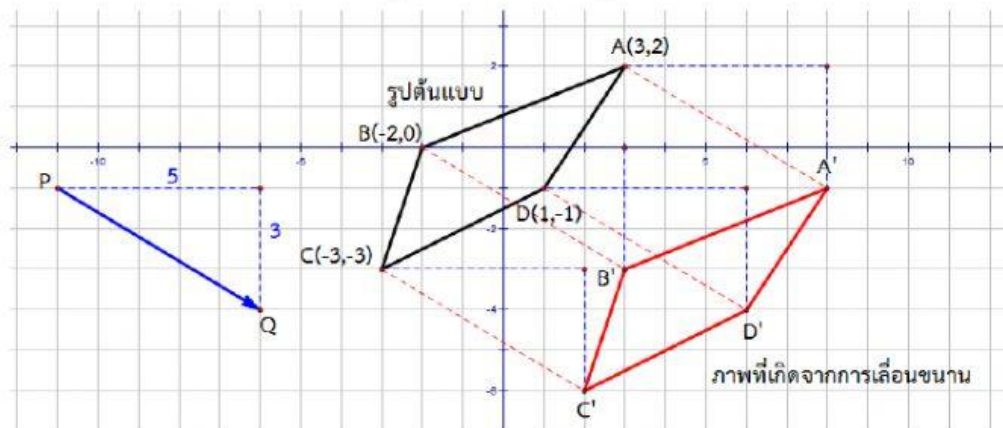
จากจุด $C(-3,-1)$ เลื่อนจุด C และ.....

..... จะได้จุด C' มีพิกัดเป็น

พบว่า สมาชิกตัวหน้า (ค่า x) ของคู่อันดับที่เป็นพิกัดของจุดของภาพที่เกิดจากการเลื่อนขนานทุกจุดมีค่าเพิ่มขึ้น 2 ในขณะที่สมาชิกตัวหลัง (ค่า y) ของคู่อันดับที่เป็นพิกัดของจุดของภาพที่เกิดจากการเลื่อนขนานทุกจุดมีค่าเพิ่มขึ้น.....

1.2 หากเลื่อนรูปต้นแบบกับภาพที่ได้จากการเลื่อนขนานมาทับกัน จะ.....

2. ภาพต่อไปนี้เกิดจากการเลื่อนขนานรูปต้นแบบ ตาม \overline{PQ} ซึ่งเป็นเวกเตอร์ของการเลื่อนขนาน



2.1 จากจุด $A(3,2)$ เลื่อนจุด A ไปทางขวาตามแนวแกน x 5 หน่วย และเลื่อนลงมาตามแนวแกน Y 3 หน่วย จะได้จุด A' มีพิกัดเป็น $(8, -1)$

จากจุด $B(\dots, \dots)$ เลื่อนจุด B ไปทางขวาตามแนวแกน x 5 หน่วย และ.....

..... จะได้จุด B' มีพิกัดเป็น (\dots, \dots)

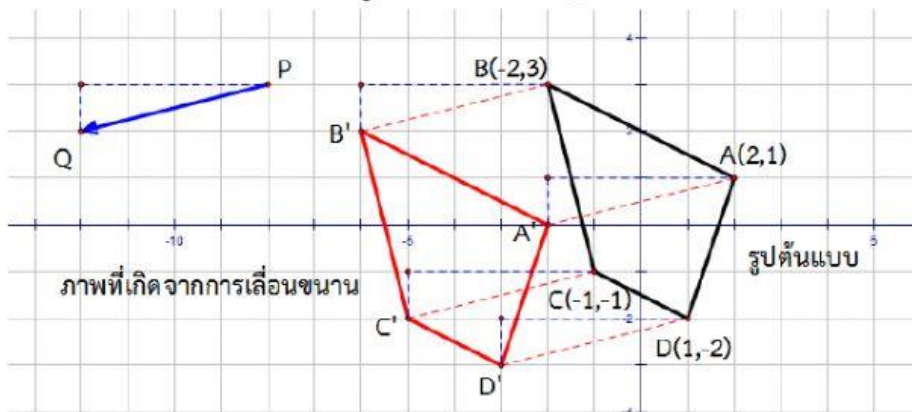
จากจุด C(..... ,) เลื่อนจุด C ไป..... และ.....
..... จะได้จุด C' มีพิกัดเป็น (..... ,)

จากจุด D(..... ,) เลื่อนจุด D ไป..... และ.....
..... จะได้จุด D' มีพิกัดเป็น (..... ,)

พบว่า สมาชิกตัวหน้า(ค่า x)ของคู่อันดับที่เป็นพิกัดของจุดของภาพที่เกิดจากการเลื่อนขนานทุกจุดมีค่าเพิ่มขึ้น.....
ในขณะที่สมาชิกตัวหลัง(ค่า y)ของคู่อันดับที่เป็นพิกัดของจุดของภาพที่เกิดจากการเลื่อนขนานทุกจุดมีค่าลดลง.....

2.2 หากเลื่อนรูปต้นแบบกับภาพที่ได้จากการเลื่อนขนานมาทับกัน จะ.....

3. ภาพต่อไปนี้เกิดจากการเลื่อนขนานรูปต้นแบบ ตาม \overrightarrow{PQ} ซึ่งเป็นเวกเตอร์ของการเลื่อนขนาน



3.1 จากจุด A(2,1) เลื่อนจุด A ไปทางซ้ายตามแนวแกน x 4 หน่วย และเลื่อนลงตามแนวแกน Y 1 หน่วย จะได้จุด A' มีพิกัดเป็น (-2,0)

จากจุด B(..... ,) เลื่อนจุด B ไปทางซ้ายตามแนวแกน x 4 หน่วย และ.....
..... จะได้จุด B' มีพิกัดเป็น (..... ,)

จากจุด C(..... ,) เลื่อนจุด C ไป..... และ.....
..... จะได้จุด C' มีพิกัดเป็น (..... ,)

จากจุด D(..... ,) เลื่อนจุด D ไป..... และ.....
..... จะได้จุด D' มีพิกัดเป็น (..... ,)

พบว่า สมาชิกตัวหน้า(ค่า x)ของคู่อันดับที่เป็นพิกัดของจุดของภาพที่เกิดจากการเลื่อนขนานทุกจุดมีค่าลดลง.....
ในขณะที่สมาชิกตัวหลัง(ค่า y)ของคู่อันดับที่เป็นพิกัดของจุดของภาพที่เกิดจากการเลื่อนขนานทุกจุดมีค่า.....

3.2 หากเลื่อนรูปต้นแบบกับภาพที่ได้จากการเลื่อนขนานมาทับกัน จะ.....