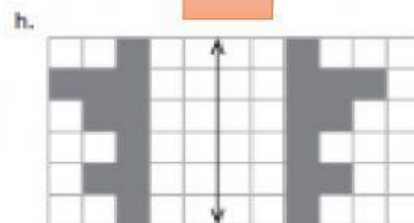
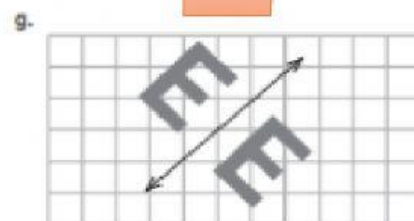
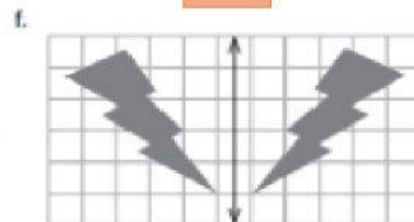
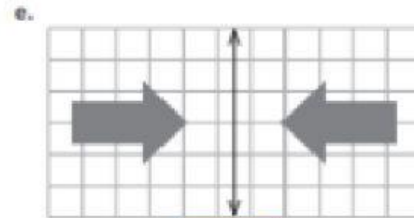
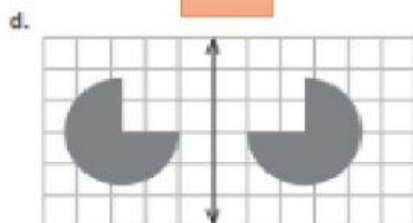
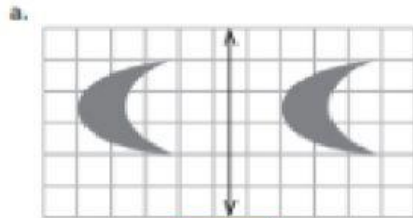


ACTIVIDAD INTERACTIVA – GEOMETRÍA

REFLEXIÓN DE FIGURAS

Recuerda: En la **reflexión** los puntos están a la **misma distancia** del eje de simetría y la **imagen reflejada** tiene el **mismo tamaño**, pero **otra dirección**.

1. Marca aquellas figuras en las que hay **reflexión** respecto del **eje de reflexión** trazado:



2. Rodrigo y Raquel dibujaron una reflexión de una estrella. Marca el niño que hizo la reflexión correcta:

