



# ATIVIDADE - DIVISÃO

1) Resolva os problemas abaixo: arraste e solte os desenhos.

a) Um feirante colocou 45 maçãs em 9 caixas. Quantas maçãs colocou em cada caixa?



b) Luana trabalha numa loja de sapatos e chegou encomenda de chinelos. Chegaram 21 pares de chinelo e ela terá que organizá-los em 4 fileiras. Quantos chinelos terá cada fileira? Sobrará chinelos?






c) Lucas e Larissa ganharam de seus tios 224 reais e eles tem que dividir de forma igual entre os dois. Quantos reais cada um terá?

A large, empty rectangular box with a brown border, intended for the boy's answer.A large, empty rectangular box with a green border, intended for the girl's answer.

d) Aurora e Noah vão comprar um presente para o seu pai e vão pagar a mesma quantia. O presente que eles escolheram custa R\$ 423 reais. Quanto cada um irá pagar?

A large, empty rectangular box with a red border, intended for the boy's answer.A large, empty rectangular box with a pink border, intended for the girl's answer.