

Họ và tên:

Lớp:

KHẢO SÁT ĐẦU NĂM MÔN TOÁN

PHẦN I : Khoanh tròn vào chữ đặt trước câu trả lời đúng.

Câu 1: Số “Chín mươi lăm” được viết là :

A. 95

B. 905

C. 59

Câu 2: Số 64 gồm :

A. 4 chục và 6 đơn vị

B. 6 chục và 4 đơn vị

C. 6 và 4

Câu 3: Trong các số 47; 98; 37. Số bé nhất là:

A. 47

B. 98

C. 37

Câu 4: Đồng hồ chỉ mấy giờ :



A. 12 giờ

B. 9 giờ

C. 10 giờ

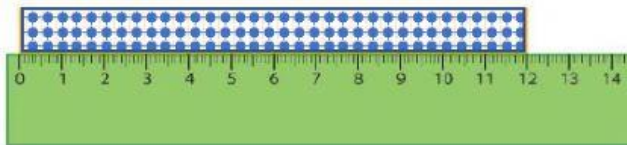
Câu 5: Các số 67; 94; 49 được xếp theo thứ tự từ lớn đến bé là:

A. 94; 67; 49

B. 49; 67; 94

C. 94; 49; 67

Câu 6: Băng giấy dài bao nhiêu cm ?



A. 10cm

B. 12cm

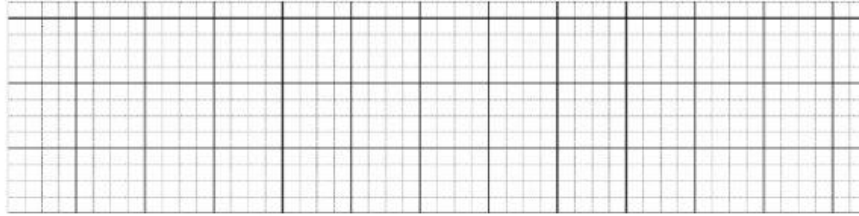
C. 11cm

B. PHẦN II: Tự luận

Câu 1: a) Đặt tính rồi tính :

$$46 + 51$$

$$86 - 25$$



b) Tính :

$$90 - 40 + 20 = \dots\dots$$

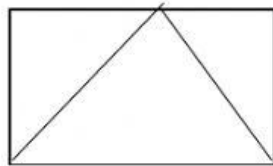
$$25 + 10 - 20 = \dots\dots$$

Câu 2: Điền dấu $>$, $<$, $=$

$$64 \dots\dots 45$$

$$95 - 15 \dots\dots 50$$

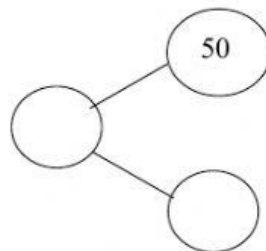

Câu 3: Điền số thích hợp vào chỗ chấm :



- Có hình tam giác.
- Có hình chữ nhật

Câu 4: Điền số thích hợp vào chỗ trống

a.



b.

