

**LEMBAR KEGIATAN PESERTA DIDIK  
(LKPD)  
KELAS 5 SD**



Nama : \_\_\_\_\_  
Kelas : \_\_\_\_\_  
Nomor Urut : \_\_\_\_\_

## ANALISIS KEBUTUHAN LKPD

**Nama Satuan Pendidikan** : SD MAKEDONIA

**Kelas/Semester** : 5/1

**Tema** : 3 ( Makanan Sehat )

**SubTema** : 3 ( Pentingnya Menjaga Asupan Makanan Sehat )

**Alokasi waktu** : 1 hari

## TUJUAN PEMBELAJARAN

1. Dengan mengamati, siswa mampu menyebutkan keunggulan produk dalam iklan.
2. Dengan mengamati, siswa mampu menjelaskan makanan atau minuman yang sehat bagi sistem pencernaan.
3. Dengan membaca, siswa mampu menjelaskan fungsi batik sebagai karya seni rupa daerah.

## MATERI POKOK :

### Bahasa Indonesia

- Menyebutkan keunggulan produk dalam iklan.

### IPA

- Makanan yang Sehat bagi Sistem Pencernaan.

### SBdP

- Batik sebagai Karya Seni Rupa Daerah

## URUTAN KEGIATAN

1. Kegiatan pembelajaran diberikan secara luring /tatapmuka.
2. Siswa menyebutkan keunggulan produk dalam iklan.
3. Siswa menjelaskan makanan atau minuman yang sehat bagi sistem pencernaan.
4. Siswa menjelaskan fungsi batik sebagai karya seni rupa daerah.

## Uraian Kegiatan



Bahasa Indonesia

### PENDALAMAN MATERI

#### Menyebutkan Keunggulan Produk dalam Iklan

Ingatlah kembali bahwa iklan dibuat agar masyarakat tertarik dengan barang atau jasa yang ditawarkan ! Oleh karena itu, pemilihan kata kunci yang tepat menjadi hal yang sangat penting. Kata kunci dalam sebuah iklan merupakan kata-kata yang menjadi konsep pokok yang dibahas dalam iklan tersebut.

Untuk dapat memahami menentukan kata kunci yang tepat dalam sebuah iklan, kita perlu memahami dengan baik informasi tentang produk yang akan disampaikan. Pemilihan kata kunci yang tepat akan memengaruhi kualitas iklan secara keseluruhan dan dapat menarik minat pelanggan yang diinginkan.







IPA

### PENDALAMAN MATERI

#### Makanan yang Sehat bagi Sistem Pencernaan

Tentu kamu masih ingat bahwa salah satu cara menjaga kesehatan sistem pencernaan adalah dengan menjaga kebersihan makanan yang dikonsumsi. Selain harus bersih, makanan yang kita makan juga harus memiliki kandungan gizi yang seimbang dan dibutuhkan oleh tubuh. Berikut beberapa contoh makanan menyehatkan bagi sistem pencernaan.



**Buah-buahan**



**Sayur-sayuran**



**Biji-bijian**

Buah mengandung banyak vitamin dan antioksidan untuk mencegah penyakit. Sayur mengandung banyak serat yang baik untuk melancarkan sistem pencernaan. Sedangkan biji-bijian mengandung asam laktat dan juga serat yang dapat meningkatkan jumlah bakteri baik di dalam usus.



SBdP

## PENDALAMAN MATERI

### Batik sebagai Karya Seni Rupa Daerah

Karya seni rupa daerah merupakan suatu bentuk kesenian yang tumbuh dan berkembang di suatu daerah di Indonesia. Berbagai bentuk kesenian nusantara yang ada sekarang ini merupakan budaya masyarakat yang sesuai dengan adat istiadat serta kondisi lingkungan di wilayah masing-masing.

Salah satu contoh karya seni rupa daerah adalah batik. Batik adalah kain bergambar yang dibuat khusus dengan menggunakan malam ( sejenis lilin khusus )

dan pengolahannya diproses dengan cara tertentu sesuai ciri khas daerah masing-masing.


Hampir di setiap daerah memiliki batik dengan ciri khasnya sendiri. Batik biasanya dibuat dengan menggunakan alat yang disebut canting, yaitu kuasa khusus yang berisi malam cair untuk digunakan diatas kain. Batik yang dibuat menggunakan canting disebut sebagai batik. Contoh batik dari beberapa daerah :




Mega mendung – Cirebon



Sogan - Solo



Kawung – Jawa Tengah



**Muatan Bahasa Indonesia KD 3.4 dan 4.4**

Pilih satu jawaban yang benar dengan memberi tanda centang pada pernyataan A,B,C, atau D.

1. Perhatikan iklan berikut!



Kata kunci yang sesuai dengan iklan di samping adalah....

- A. Berolahraga
- B. Makanan sehat
- C. Minuman segar
- D. Sirup kelapa

2. Jelaskan bagaimana cara menentukan keunggulan produk dalam iklan !

3. Uraikan kesimpulan dari iklan di bawah ini!





**Muatan IPA KD 3.3 dan 4.3**

Pilih satu jawaban yang benar dengan memberi tanda centang pada pernyataan A,B,C, atau D.

4. Makanan yang kaya akan vitamin dan antioksidan adalah....

- A. Jeruk
- B. Brokoli
- C. Kacang merah
- D. Wortel

5. Makanan dan minuman yang baik untuk kesehatan sistem pencernaan manusia.... (Jawaban lebih dari satu )

- |                                 |                          |
|---------------------------------|--------------------------|
| Roti isi telur mata sapi        | <input type="checkbox"/> |
| Roti yang telah ditumbuhi jamur | <input type="checkbox"/> |
| Buah pepaya                     | <input type="checkbox"/> |
| Sayur yang tidak dicuci bersih  | <input type="checkbox"/> |
| Air mentah                      | <input type="checkbox"/> |
| Gorengan yang dihinggapi lalat  | <input type="checkbox"/> |
| Nasi dengan ikan dan sayur sop  | <input type="checkbox"/> |

6. Apa yang kamu ketahui tentang makanan dan minuman sehat? Apa saja ciri-cirinya?

7. Menurutmu, apakah makanan pedas baik untuk kesehatan pencernaan manusia? Apa yang akan terjadi jika kamu makan makanan pedas berlebihan ?



**Muatan SBdP KD 3.4 dan 4.4**

Pilih satu jawaban yang benar dengan memberi tanda centang pada pernyataan A,B,C, atau D.

8. Batik dibuat menggunakan alat yang bernama....

- A. Tangan
- B. Lilin Khusus
- C. Canting
- D. Mesin


9. Jodohkanlah dengan cara menarik garis!

☐

☐ Motif Sogan

☐

☐ Motif Mega Mendung

☐

☐ Motif Kawung

10. Jelaskan mengapa batik di setiap daerah memiliki motif yang berbeda – beda !