



PENILAIAN HARIAN
SD ISLAM PLUS AL-WAFA
TAHUN PELAJARAN 2021/2022



Mata Pelajaran : Matematika

Nama :

Hari/Tanggal : Senin, 13 September 2021

Kelas : I (Satu)


Waktu :

Skor : $\frac{\text{Jumlah jawaban benar} \times 100}{\text{Total nilai}}$

Pilihan berganda

Berilah tanda silang (X) untuk jawaban yang paling benar!

1.



Titik-titik tersebut jika dihubungkan dengan garis maka akan membentuk bangun datar

A. segitiga

B. segi empat

C. persegi panjang

2. Contoh benda yang berbentuk segitiga adalah

A.




B.



C.



3. Perhatikan gambar berikut!



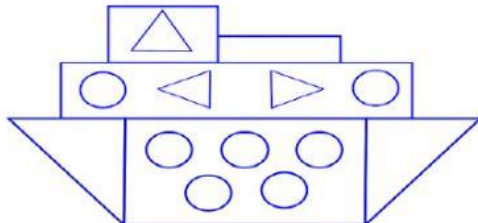
Bangun datar tersebut mempunyai sisi sebanyak

A. 3

B. 1

C. 4

4. Perhatikan gambar berikut!




Pada gambar tersebut banyak bangun datar segitiga adalah

A. 6


B. 5

C. 7

5. Fahri dan keluarganya datang ke rumah Rina.
Fahri melihat foto keluarga Rina terpajang di Ruang tamu.
Berbentuk apakah bingkai foto itu
- A. Segi empat B. lingkaran C. persegi panjang
6. Segitiga mempunyai sisi sebanyak
- A. 4 sisi B. 3 sisi C. 1 sisi
7. Perhatikan gambar berikut!



- Benda tersebut yang permukaannya berbentuk persegi panjang adalah
- A. (A), dan (G) B. (C), dan (E) C. (F), dan (C)
8. Aku adalah bangun datar.
Aku mempunyai tiga sisi.
Aku adalah
- A. Segi tiga B. Persegi panjang C. lingkaran
9. Bangun datar yang semua sisinya sama panjang adalah
- A. lingkaran B. segi empat C. segi tiga
10. Titik-titik jika dihubungkan dengan garis lainnya maka akan membentuk bangun datar persegi adalah



***“Semoga Sukses”
Selamat Mengerjakan***