

E.M. SEBASTIÃO RIBEIRO DE DEUS

LABORATÓRIO DE TECNOLOGIAS DIGITAIS

ALUNO(A)

PROFESSORA: ALESSANDRA OLIVEIRA

PROBLEMINHAS DE ADIÇÃO

1- LUCAS TINHA TRÊS PIPAS. GANHOU MAIS DUAS PIPAS.
COM QUANTAS PIPAS ELE FICOU?



$$\square + \square = \square$$


2- PAULO TINHA TRÊS BOLAS E SEU AMIGO MATHEUS TINHA QUATRO
BOLAS. QUANTAS BOLAS OS DOIS TÊM JUNTOS?



$$\square + \square = \square$$

3 - CONTE E RESPONDA:


A) QUANTAS FRUTAS HÁ AO TODO?



EM MATEMÁTICA: $4 + 6 =$




EM MATEMÁTICA: $2 + 8 =$



EM MATEMÁTICA: $1 + 9 =$


PROBLEMINHAS DE SUBTRAÇÃO

1- O RATINHO TEM **CINCO** PEDAÇOS DE QUEIJO, ELE COMEU **DOIS** PEDAÇOS. QUANTOS PEDAÇOS SOBRARAM?



EM MATEMÁTICA: _____ - _____ = _____

2- MARIA GANHOU **SEIS** LAÇOS DA SUA MÃE, ELA DEU **TRÊS** LAÇOS PARA SUA PRIMA LIVIA. COM QUANTOS LAÇOS MARIA FICOU?



EM MATEMÁTICA: _____ - _____ = _____