



LKPD



TEMA 3

PEDULI TERHADAP MAKHLUK HIDUP

KELAS 4
SEKOLAH DASAR

NAMA :

KELAS :




Bu Lina Study

LIVEWORKSHEETS

Soal Pilihan Ganda

| No | Soal |
|----|---|
| 1. | <p>Pernyataan yang tepat tentang pemanfaatan bagian tubuh hewan bagi manusia adalah :</p> <p>A. daging sapi dapat digunakan sebagai sumber makanan dan bulu ayam digunakan sebagai obat</p> <p>B. kulit sapi digunakan sebagai keset dan bulu ayam dapat digunakan sebagai bahan dasar kok</p> <p>C. daging sapi dapat digunakan sebagai sumber makanan dan bulu ayam dapat digunakan sebagai bahan dasar kok</p> <p>D. kulit sapi dapat digunakan sebagai bahan kerajinan sementara bulu ayam dapat digunakan sebagai obat</p> |

| No | Soal |
|----|--|
| 2. | <p>Pernyataan yang tepat tentang pemanfaatan bagian tubuh hewan bagi manusia adalah :</p> <p>A. Kulit harimau digunakan sebagai obat</p> <p>B. Bulu ayam digunakan untuk membuat korek kuping</p> <p>C. Daging ayam digunakan sebagai bahan kerajinan</p> <p>D. Daging sapi dibuat sebagai bahan makanan</p> |

| No | Soal |
|----|---|
| 3. | <p>Perhatikan gambar berikut!</p>  <p>Pernyataan yang sesuai dengan gambar kaki no 4 adalah :</p> <p>A. kuku pendek dan kuat yang berfungsi untuk mengais makanan</p> <p>B. selaput di antara jari yang berfungsi untuk berjalan di tanah becek</p> <p>C. cakar tajam untuk menyerang dan mencengkram magsa</p> <p>D. kuku runcing dan ramping memudahkan hinggap di dahan pohon</p> |

Tumbuhan memiliki bagian-bagian yang terdiri dari akar, batang, daun, bunga, buah, dan biji. Setiap bagian tumbuhan mempunyai fungsi yang berbeda.


Perhatikan beberapa fungsi bagian tumbuhan di bawah ini!

- (1) Sebagai tempat fotosintesis
- (2) Alat transportasi
- (3) Menyerap air dan unsur hara dari dalam tanah
- (4) Menunjang berdirinya tumbuhan
- (5) Menyimpan cadangan makanan

Akar tumbuhan memiliki fungsi yang ditunjukkan oleh nomor....

- A. (1), (2), dan (3)
- B. (2), (3), dan (4)
- C. (2), (4), dan (5)
- D. (3), (4), dan (5)

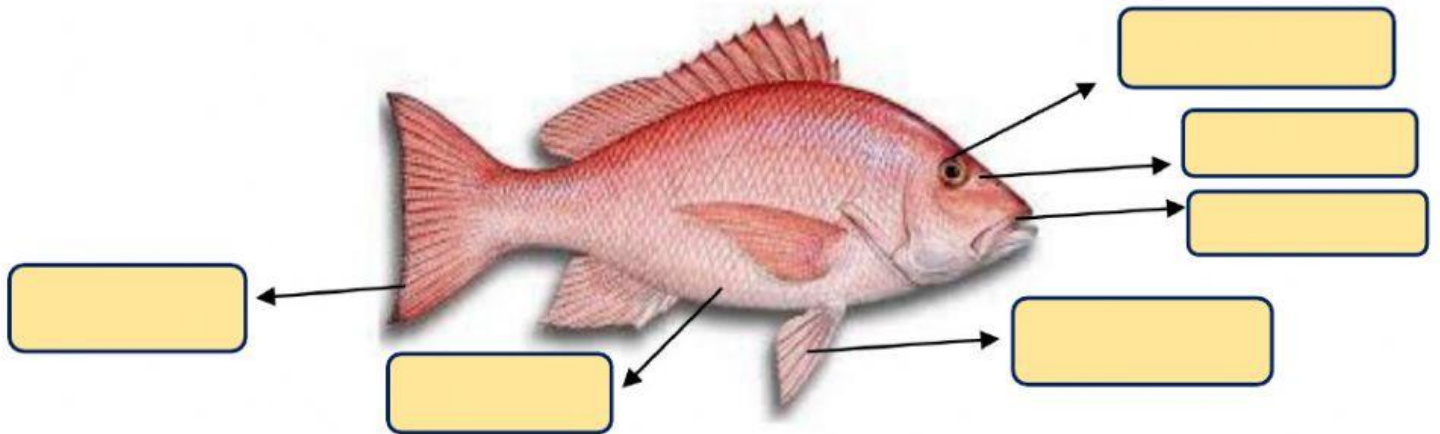
Gambar di bawah ini adalah bagian pada tumbuhan yang memiliki biji.



Bagian tumbuhan tersebut merupakan

- A. Akar
- B. Buah
- C. Batang
- D. Daun

Soal mencocokkan bagian-bagian tubuh



MATA

MULUT

PERUT

SIRIP

LUBANG HIDUNG

EKOR