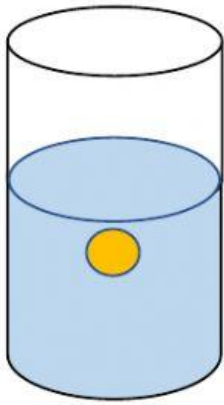
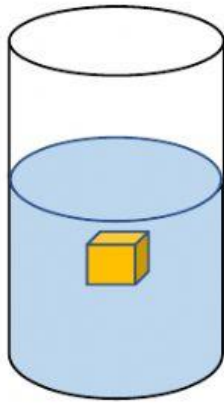


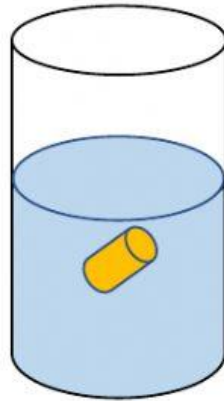
แบบฝึกทักษะการตั้งสมมติฐาน



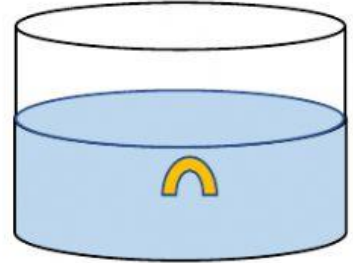
ก



ข



ค



ง

จากภาพ ก ข ค และ ง เป็นภาพที่ภายในบรรจุของเหลว เมื่อหย่อนวัตถุต่าง ๆ ตามภาพลงในภาชนะทั้ง 4 พร้อมปรากฏว่าก้อนวัตถุที่อยู่ในเคลื่อนที่ลงกันด้วยความเร็ว แตกต่างกันดังภาพ

ปัญหา : ความเร็วของวัตถุที่ตกลงไปในของเหลวขึ้นอยู่กับอะไรบ้าง

ก.....

ข.....

ค.....

ง.....

บอกชนิดและสิ่งแวดล้อม ซึ่งอาจจะมีผลต่อความเร็วของวัตถุนั้นเมื่อตกลงไปในของเหลว

ก.....

ข.....

ค.....

ง.....

ให้ผู้เรียนตั้งสมมติฐานหลังจากสามารถบอกชนิดของตัวแปรจากปัญหาข้างต้น 3 สมมติฐาน

.....

.....

.....

.....

ชื่อ..... เลขที่..... ชั้น.....