




NOMBRE: .....

**RESTANDO PELOTAS**



$8 - 4 = 4$



**SITUACIÓN PROBLEMÁTICA**

SOL TENÍA 9 GLOBOS , SE LE VOLARON 6 ¿CUÁNTOS LE QUEDARON?

TENÍA ..... - SE VOLARON ..... = LE QUEDARON .....

RESPUESTA: .....