

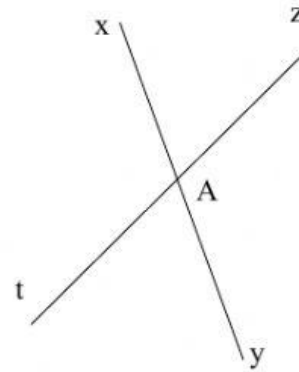
BÀI TẬP HAI GÓC ĐỐI ĐỈNH

Bài 1: Em hãy điền vào chỗ trống để có khẳng định đúng:

- a. Hai góc đối đỉnh là hai góc mà mỗi cạnh góc này làcủa một cạnh góc kia.
- b. Hai góc đối đỉnh thì

Bài 2: Cho hình vẽ:

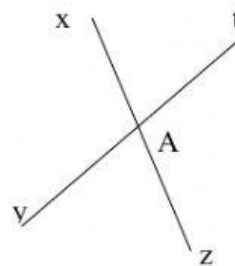
- a) Góc xAz và góc là hai góc đối đỉnh
vì cạnh Ax là tia đối của cạnh Ay và cạnh Az là
..... của cạnh At
- b) Góc xAt và góc zAy là
vì cạnh Ax là tia đối của cạnh..... và
cạnh.....



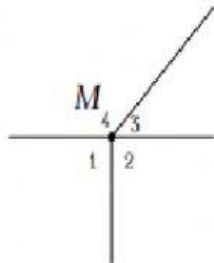
Bài 3: Điền vào chỗ trống trong các phát biểu sau:

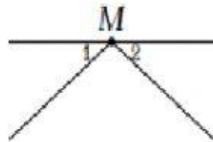
- a) Hai góc có mỗi cạnh của góc này là tia đối của một cạnh góc kia được gọi là hai góc
- b) Hai đường thẳng cắt nhau tạo thành hai cặp góc.....

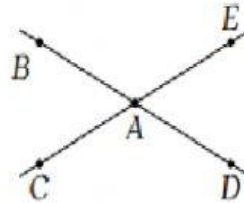
Bài 4: Hai đường thẳng xz và yt cắt nhau như hình vẽ. Viết tên 2 cặp góc đối đỉnh.

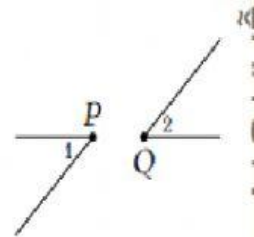


Bài 5: Hình nào dưới đây có cặp góc đối đỉnh. Hãy chọn vào ô trống dưới hình đó.







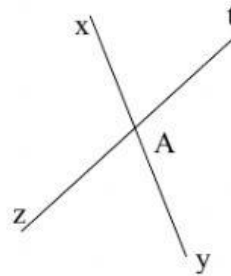


Bài 6: Cho hai đường thẳng xy và zt cắt nhau tại A và góc xAt bằng 60° . Tính số đo các góc còn lại

Góc xAz = ⁰

Góc yAz = ⁰

Góc yAt = ⁰



Bài 7: Hai đường thẳng AB và CD cắt nhau tại O tạo thành bốn góc khác góc bẹt. Một trong bốn góc đó bằng 50° . Ba góc còn lại bằng:

A. $130^\circ, 50^\circ, 50^\circ$.

B. $50^\circ, 120^\circ, 120^\circ$.

B. $130^\circ, 130^\circ, 130^\circ$.

D. $50^\circ, 130^\circ, 130^\circ$.

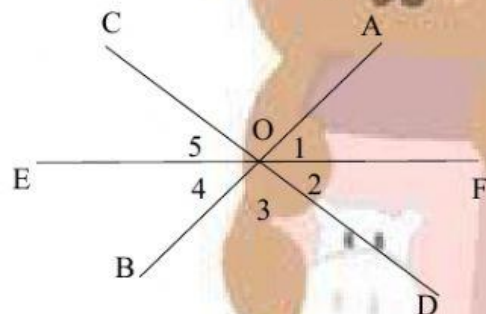
Bài 8: Ba đường thẳng AB, CD, EF cắt nhau tại O, trong đó góc AOC = 94° .

Góc O_1 = góc O_5 . Điền các số đo góc vào chỗ trống cho đúng:

Góc O_1 =; Góc O_2 =

Góc O_3 =; Góc O_4 =

Góc O_5 =



THÁI THỊ THU HƯƠNG