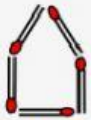


מבדק הצלחה 1

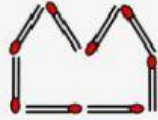
שם התלמיד/ה: _____

ציון: _____

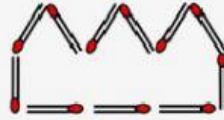
בונים סדרת מבנים מגפרורים. הסדרה בנויה לפי חוקיות קבועה.



מבנה 1



מבנה 2



מבנה 3

1. השלימו את הטבלה:

מספר מבנה	מספר גפרורים
1	
2	
3	
4	
5	

2. מבנה 11 מורכב מ- 35 גפרורים. מכמה גפרורים מורכב מבנה 12?

3. נסחו במילים את החוקיות לפיה בנויה הסדרה.