

Nama	:	
Kelas	:	




A. Berilah tanda silang (x) pada huruf a, b, atau c dengan jawaban yang paling tepat!

1. Amati gambar, berapa jumlah balon di samping . . .

- a. 4                      b. 5                      c. 7



2. Ismail memiliki 6 mangga, manakah gambar yang menunjukkan 6 mangga tersebut . . .

- a.       b.       c. 

3. Jumlah jari yang menunjukka bilangan tujuh yaitu . . .

- a.       b.       c. 

4. Salma mempunyai 5 pensil warna, jika 5 pensil warna di tulis dengan nama bilangan yaitu . . . pensil warna.

- a. dua                      b. lima                      c. sembilan

5. Coba kalian amati gambar di bawah yang menunjukkan bilangan delapan . . .

- a.       b.       c. 

6. Hitung banyak huruf vokal yang terdapat pada kata “ i s t i m e w a ” . . .

- a. lima                      b. empat                      c. tiga

7. Bimo senang berenang, karena berenang merupakan salah satu kegemaran.

Kata “b e r e n a n g” memiliki jumlah huruf . . .

- a. 4                      b. 8                      c. 10

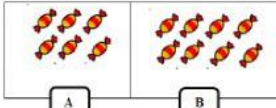
8. Kata mana yang memiliki **empat** huruf konsonan . . .

- a. t u b u h                      b. m e m b a c a                      c. k e s e h a t a n

9. Bilangan yang tepat untuk melengkapi bilangan di bawah adalah . . .

(1, 3, \_\_, \_\_, 6, \_\_)

- a. 3, 4, 7                      c. 1, 3, 4                      d. 4, 5, 6

10. 

Perbandingan yang sesuai dengan penjelasan gambar di atas adalah . . .

- a. A sama dengan B
- b. A lebih dari B
- c. A kurang dari B

11. 7 sabun . . . dari 2 sabun.

- a. lebih dari
- b. kurang dari
- c. sama dengan

12. Pilih jawaban yang tepat untuk melengkapi soal di bawah.

8 \_\_\_\_\_ dari 8

- a. lebih dari
- b. sama dengan
- c. kurang dari

13. Urutkan bilangan dibawah dari yang terkecil . . .

3	7	2	6	8
---	---	---	---	---

- a. 6, 4, 2, 8, 10
- b. 2, 3, 6, 7, 8
- c. 10, 2, 4, 6, 8

14. Urutkan bilangan dibawah dari yang terbesar . . .

5	3	7	4	2
---	---	---	---	---

- a. 7, 5, 4, 3, 2
- b. 2, 3, 4, 5, 6
- c. 5, 6, 2, 3, 4

15. Jawaban yang tepat untuk mengisi penjumlahan di bawah adalah . . .

$$3 + 5 = \underline{\quad}$$

- a. 3
- b. 8
- c. 7

16. Amati gambar di bawah



- a.
- b.
- c.

17. Jawaban yang tepat untuk mengisi pengurangan di bawah adalah . . .

$$9 - 2 = \underline{\quad}$$

- a. 4                      b. 6                      c. 7

18. saki memiliki 6 buku gambar

Dibelikan lagi oleh ibu 2 buku gambar

Berapa jumlah buku gambar saki sekarang \_\_\_\_\_

- a. lima                      b. enam                      c. delapan


19. Hawa diberikan 7 potong kue oleh bibi

Hawa memberikan 3 potong kue kepada kakak

Berapa sisa kue hawa sekarang \_\_\_\_\_

- a. lima                      b. empat                      c. delapan

20.



Ada berapakah jumlah topi yang tidak disilang (X) . . .

- a. 9                      b. 7                      c. 2