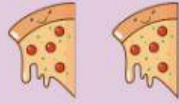


Name _____ Class _____ No. _____

การบวกจำนวนสองจำนวนที่ผลบวกไม่เกิน 10


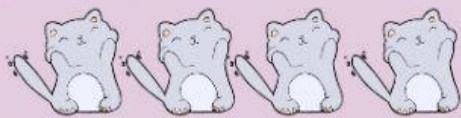
 จงหาผลบวกต่อไปนี้



$$4 + 2 = \square$$




$$3 + 3 = \square$$



$$4 + 5 = \square$$



$$6 + 1 = \square$$



$$4 + 6 = \square$$