


NOME:
TURMA:

PROFESSORA:

APRENDENDO A MULTIPLICAR

 ASSISTA O VÍDEO ABAIXO


 AGORA RESOLVA AS MULTIPLICAÇÕES CONFORME O EXEMPLO:



$$\boxed{2} + \boxed{2} + \boxed{2} + \boxed{2} = \boxed{8}$$

OU

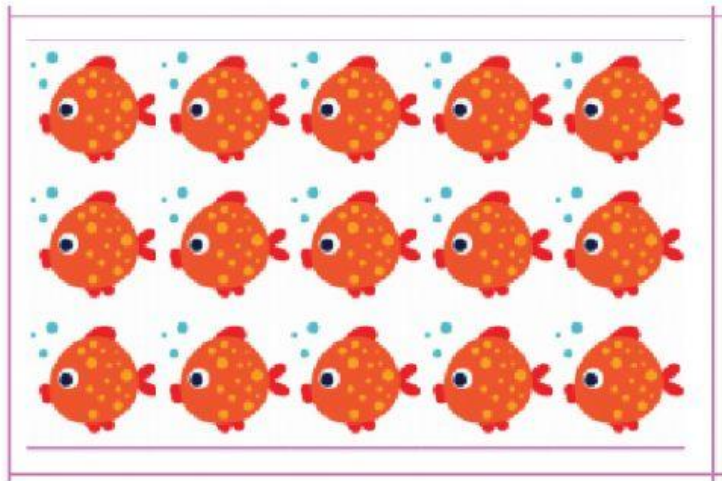
$$\boxed{4} \times \boxed{2} = \boxed{8}$$



$$\square + \square + \square + \square = \square$$

OU

$$\square \times \square = \square$$




$$\square + \square + \square = \square$$

OU

$$\square \times \square = \square$$

 COMPLETE O QUADRO

PATINETES 	
NÚMERO DE PATINETES	NÚMERO DE RODAS
1	2
2	
3	
4	
5	
6	
7	
8	
9	
10	

 A MÃE DE ROBERTA FARÁ BOLO E DOCINHOS PARA O SEU ANIVERSÁRIO. SUA MÃE PRECISA SABER QUANTAS CRIANÇAS SERÃO CONVIDADAS PARA FAZER A QUANTIDADE CERTA DE GULOSEIMAS.





PARA ARRUMAR A MESA, ELA ORGANIZOU ALGUNS DOCINHOS EM UMA BANDEJA COMO MOSTRA A ILUSTRAÇÃO ABAIXO. VOCÊ SABE DIZER QUANTOS DOCINHOS ELA COLOCOU NA BANDEJA?

ELA COLOCOU

DOCINHOS.



SE ELA FIZER 2 BANDEJAS COMO ESSA, QUANTOS DOCINHOS ELA TERÁ FEITO?

ELA TERÁ FEITO

DOCINHOS.



NA HORA DE SERVIR O BOLO, ELA VAI COLOCAR 2 BRIGADEIROS EM CADA PRATINHO. REGISTRE QUANTOS BRIGADEIROS ELA VAI PRECISAR PARA MONTAR:

1 PRATINHO DE BOLO	>>>	2 BRIGADEIROS
2 PRATINHOS DE BOLO	>>>	
3 PRATINHOS DE BOLO	>>>	6 BRIGADEIROS
4 PRATINHOS DE BOLO	>>>	
5 PRATINHOS DE BOLO	>>>	



A MÃE DE ROBERTA FOI AO SACOLÃO PORQUE GOSTARIA DE SERVIR SALADA DE FRUTAS NA FESTA.
VEJA OS PREÇOS DAS FRUTAS QUE ELA ENCONTROU:



ELA TEM 20 REAIS. ESSE VALOR É SUFICIENTE PARA PAGAR AS FRUTAS?

☐

SIM

☐

NÃO



LIGUE AS QUANTIAS EM DINHEIRO AS ADIÇÕES CORRESPONDENTES.



$$10 + 10 + 10 + 10 + 10 + 10 = 60$$



$$2 + 2 + 2 + 2 + 2 = 10$$



$$5 + 5 + 5 = 15$$



ALGUNS AMIGOS DE ROBERTA, JUNTARAM DINHEIRO PARA COMPRAR UM PRESENTE PARA ELA. AJUDE-OS A DESCOBRIR A QUANTIA QUE CADA UM ARRECADOU.



BEATRIZ



R\$



LUCAS



R\$



RAFAEL



R\$



MARIA



R\$



GABRIELA



R\$



FELIPE



R\$