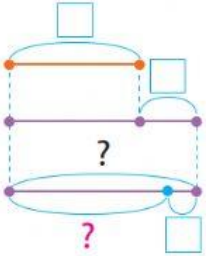


Досліджуємо задачі на знаходження різниці

2

Доповни схему. Добери та доповни короткий запис.

- Для виготовлення ляльок-мотанок діти взяли два мотки ниток. У першому мотку було 9 м ниток, а в другому — на 4 м більше, ніж у першому. З другого мотка витратили 2 м ниток. Скільки метрів ниток залишилось у другому мотку?



Було — ?, на б., ніж

Витратили —

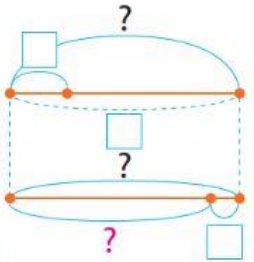
Залишилось — ?

1)	=								
2)	=								
Відповідь:									

3

Доповни схему. Добери та доповни короткий запис.

- У дітей було 4 мотки ниток, по 9 м у кожному мотку. На виготовлення ляльки-мотанки діти витратили 2 м ниток. Скільки метрів ниток у них залишилось?



а)

Було — ?, по взяти р.

Витратили —

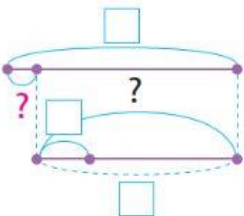
Залишилось — ?

1)	=								
2)	=								
Відповідь:									

4

Доповни схему. Добери та доповни короткий запис.

- У дітей було 9 м ниток. Вони виготовили 4 ляльки-мотанки, витративши по 2 м ниток на кожен ляльку. Скільки метрів ниток у них залишилось?



Було —

Витратили — ?, по взяти р.

Залишилось — ?

1)									
2)									
Відповідь:									

3. Обчисли за стрілочками.

