

สัปดาห์ที่ 6 – 10 กันยายน 2564

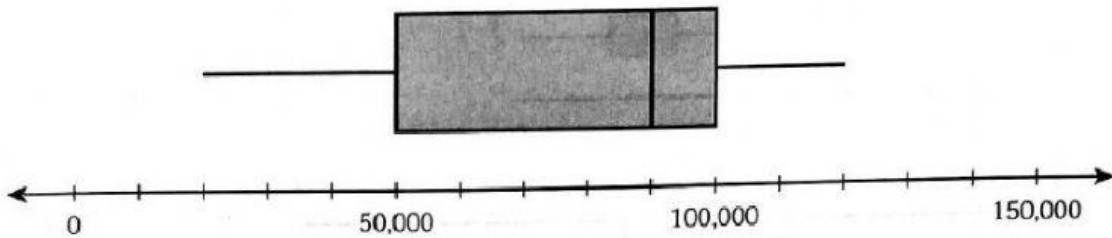
วิชาคณิตศาสตร์ มัธยมศึกษาปีที่ 3

ครูผู้สอน นางชฎาพร เทพเลื่อน

ชื่อ.....

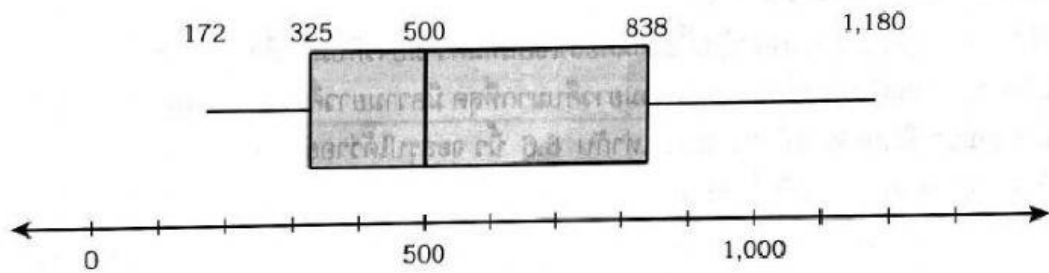
เรื่อง การอ่านและแปลความหมายจากแผนภาพกล่อง

- 1) รายได้รวมของครอบครัวที่มีสมาชิก 4 คน ในชุมชนแห่งหนึ่ง จำนวน 24 ครอบครัว



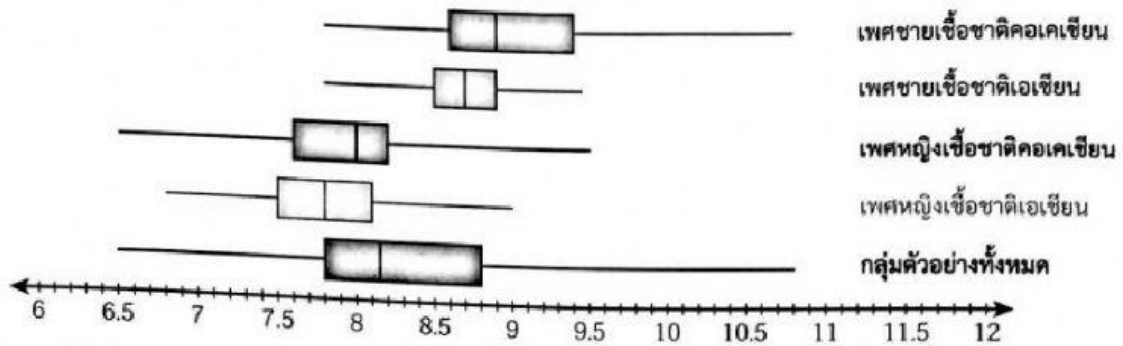
ในช่วงรายได้.....บาท ข้อมูลมีการกระจายตัวของข้อมูลมากกว่าช่วง
อื่นๆ รองลงมาเป็นช่วง.....บาท ช่วง.....บาท
และช่วง.....บาท ตามลำดับ

- 2) จำนวนพนักงานของโรงงานในนิคมอุตสาหกรรมแห่งหนึ่ง จำนวน 100 โรงงาน



ในช่วง.....คน มีการกระจุกตัวมากที่สุด ในช่วงจำนวน.....คน
ข้อมูลมีการกระจายตัวเท่ากับช่วง.....คน

3. ทีมนักวิจัยได้ศึกษาเปรียบเทียบความยาวคืบ (นิ้ว) ซึ่งวัดจากนิ้วหัวแม่มือถึงนิ้วก้อย ของมือขวาของนักเปียโน 473 คน ได้ผลดังแผนภาพกล่องดังนี้



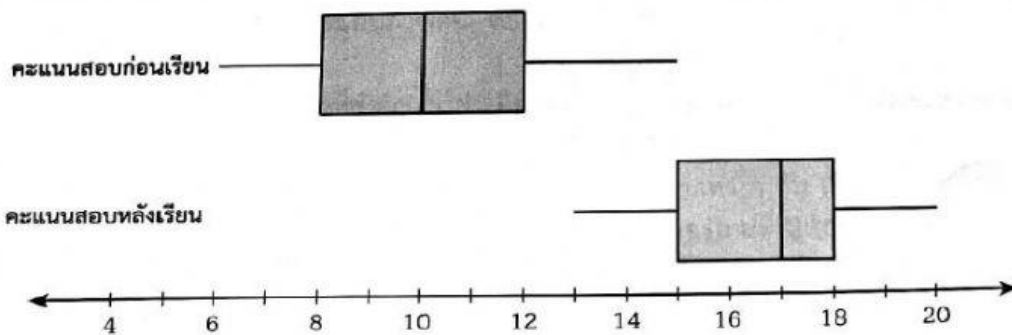
จากข้อมูลข้างต้น จงตอบคำถามต่อไปนี้

- 1) 75% ของกลุ่มตัวอย่างเพศหญิงเชื้อชาติคอเคเซียนที่มีความยาวคืบมากที่สุด มีความยาวคืบอยู่ในช่วงใด
- 2) 25% ของกลุ่มตัวอย่างทั้งหมดที่มีความยาวคืบมากที่สุด มีความยาวคืบอยู่ในช่วงใด

1) ตอบ.....

2) ตอบ.....

2. คะแนนสอบก่อนเรียนและหลังเรียนเรื่องสถิติ ซึ่งมีคะแนนเต็ม 20 คะแนน ของนักเรียน 20 คน แสดงได้ดังแผนภาพกล่องต่อไปนี้



จากแผนภาพกล่องข้างต้น นักเรียนจะสรุปเกี่ยวกับคะแนนสอบก่อนเรียนและหลังเรียนเรื่องสถิติ ของนักเรียนห้องนี้เป็นอย่างไร

ตอบ.....

