


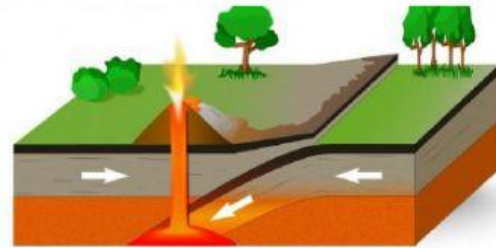


I. Instrucciones: Identifica el movimiento de las placas tectónicas. Parea

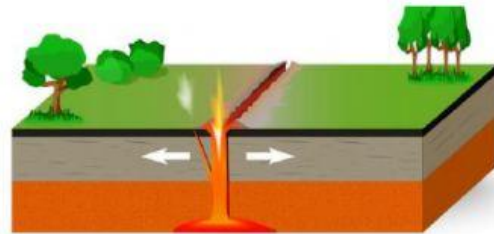
1. Divergente



2. Convergente



3. Transformante



II. Observa el mapa e identifica la placa y el tipo de movimiento.

Fronteras de las Placas



Numero	Nombre de la placa	Tipo de movimiento
1		
2		
3.		
4.		