

D4 Kadaran

1. Rajah menunjukkan harga bagi tiga biji mangga.



Ahmad membeli 7 biji buah mangga yang sama. Berapakah Ahmad perlu bayar?

RM

2. Ali menerima upah sebanyak RM35 untuk 5 jam bekerja. Berapakah upah untuk 8 jam bekerja?

RM

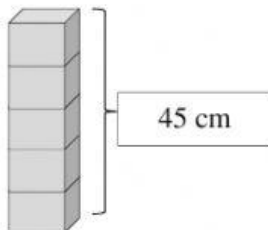
3. Rajah menunjukkan harga bagi tiga buah buku.



Nyatakan harga bagi 7 buah buku yang sama.

RM

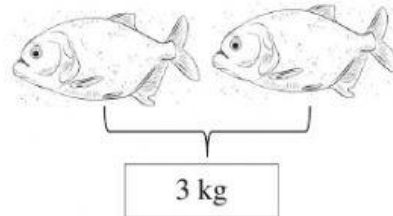
4. Rajah menunjukkan tinggi bagi lima buah kotak.



Hitung tinggi 4 buah kotak yang sama.

cm

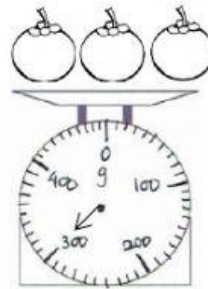
5. Gambar menunjukkan jisim bagi dua ekor ikan bawal.



Hitung jisim, dalam g, 9 ekor ikan yang bawal.

g

6. Rajah menunjukkan jisim bagi tiga biji manggis.



- (a) Nyatakan jisim, dalam g, 2 biji manggis yang sama.

g

- (b) Nyatakan jisim, dalam g, 5 biji manggis yang sama.

g