





แบบฝึกหัด 4.5 ก (ชุดที่ 1)


ให้นักเรียนจับโยงเส้นจับคู่ให้ถูกต้อง


1) $\frac{7}{11} + \left(-\frac{5}{11}\right)$ 


 ก. $-\frac{10}{15}$ หรือ $-\frac{2}{3}$


2) $\frac{5}{6} + \left(-\frac{7}{12}\right)$ 


 ข. $-\frac{38}{7}$ หรือ $-5\frac{3}{7}$


3) $\left(-2\frac{1}{9}\right) + \left(-\frac{8}{9}\right)$ 


 ค. $\frac{2}{11}$


4) $-1\frac{4}{15} + \frac{3}{5}$ 


 ง. $-\frac{19}{6}$ หรือ $-3\frac{1}{6}$


5) $\left(-\frac{5}{6}\right) + \left(-2\frac{1}{3}\right)$ 


 จ. $\frac{3}{12}$ หรือ $\frac{1}{4}$


6) $-5 + \left(-\frac{3}{7}\right)$ 


 ฉ. $-\frac{31}{22}$ หรือ $-1\frac{9}{22}$


7) $1\frac{5}{6} + \left(-\frac{8}{9}\right)$ 


 ช. $-\frac{305}{42}$ หรือ $-7\frac{11}{42}$

8) $-2\frac{7}{11} + \left(1\frac{5}{22}\right)$ 

 ซ. $-\frac{27}{9}$ หรือ -3

9) $2\frac{7}{12} + \left(-3\frac{3}{8}\right)$ 

 ฅ. $-\frac{19}{24}$

10) $-5\frac{1}{14} + \left(-2\frac{4}{21}\right)$ 

 ฉ. $\frac{17}{18}$

