

PHIẾU ÔN TẬP CUỐI TUẦN 11



VIẾT

con chồn

số bốn

ốc sên

con mưa



Đọc từ ngữ. Nối từ ngữ với hình :



ngọn nến

cái kèn

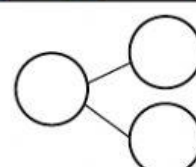
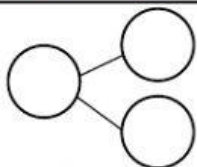
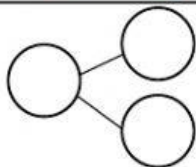
nón lá

bàn học



TOÁN

Bài 1: Viết số vào sơ đồ.



Bài 2: Số ?



$3 + 2 = \dots\dots$



$1 + 3 = \dots\dots$



$2 + 2 = \dots\dots$

Bài 3: Nối hình với phép tính.




$1 + 2$

$3 + 2$

$2 + 2$

$1 + 1$



Nhận xét:

