

ชื่อ..... ชั้น..... เลขที่.....


ให้นักเรียนพิจารณาแบบจำลองโมเลกุลต่อไปนี้แล้วระบุว่าเป็น

อะตอมธาตุ

โมเลกุลธาตุ

หรือ


โมเลกุลสารประกอบ



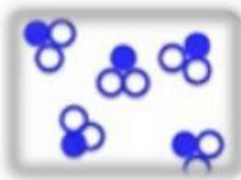
(ก)




(ข)



(ค)



(ง)



(จ)

สารที่กำหนดให้ต่อไปนี้ เป็น “ธาตุ” หรือ “สารประกอบ”

ข้อ	สาร	“ธาตุ” หรือ “สารประกอบ”
1	Ca	
2	H ₂ O ₂	
3	He	
4	P ₄	
5	NaCl	
6	ดินปืน	
7	ทองแดง	
8	ไอโซน	
9	C-14	
10	สารส้ม	