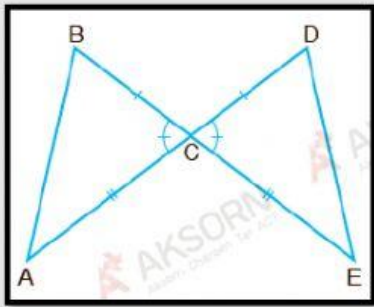


ชื่อ-สกุล..... ชั้น..... เลขที่.....

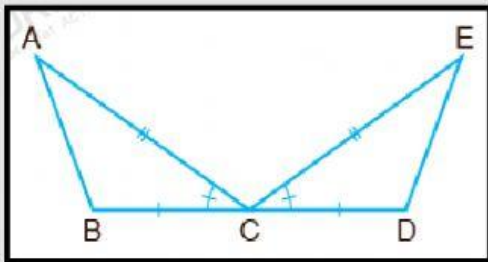
แบบฝึกทักษะที่ 5.3

ความเท่ากันทุกประการของรูปสามเหลี่ยมแบบ ด้าน-มุม-ด้าน

จงตรวจสอบว่ารูปสามเหลี่ยมสองรูปในแต่ละข้อต่อไปนี้ คู่ใดบ้างที่เท่ากันทุกประการ โดยมีความสัมพันธ์กันแบบ ด้าน-มุม-ด้าน

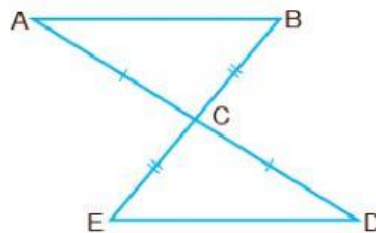


ตอบ.....



ตอบ.....

กำหนดให้ $AC = DC$ และ $BC = EC$ จงเติมเหตุผลในแต่ละข้อที่ทำให้ $\triangle ABC \cong \triangle DEC$



1. $AC = DC$ (.....)
2. $BC = EC$ (.....)
3. $\hat{A}CB = \hat{D}CE$ (.....)
4. $\triangle ABC \cong \triangle DEC$ (.....)

