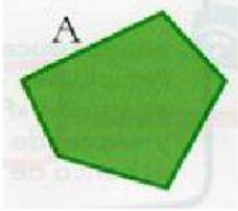
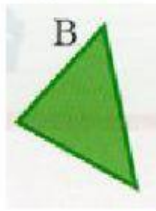


FORMAS PLANAS Y ESPACIALES I


1. Clasifica estos polígonos según el número de lados:



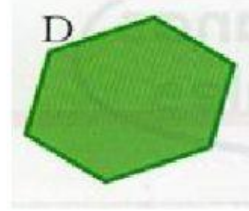
A:



B:




C:



D:

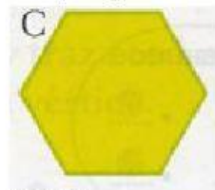
2. Escribe cuántos lados, ángulos y diagonales tiene cada uno de estos polígonos:



LADOS:
ÁNGULOS:
DIAGONALES

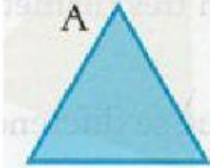


LADOS:
ÁNGULOS:
DIAGONALES:



LADOS:
ÁNGULOS:
DIAGONALES:

3. Clasifica estos triángulos según sus lados:



A:



B:



C:

4.-Clasifica los triángulos del ejercicio anterior según sus ángulos.

A:

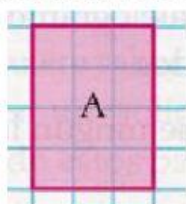
B:

C:

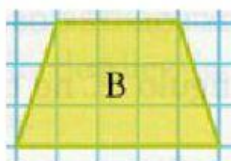
5. El perímetro de un triángulo es de 54 cm. Uno de sus lados mide 17 cm y otro 22 cm. ¿Cuánto mide el tercer lado?

El tercer lado mide: cm.

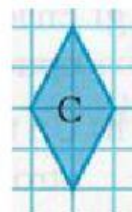
6. Nombra estos cuadriláteros:



A:



B:



C: