
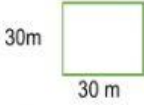

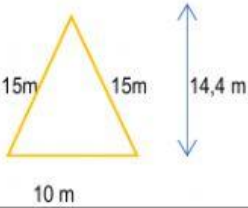
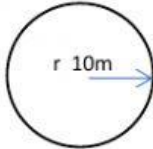


	<i>Matemática – Prof.ª Ana Lucia Maia</i>		
	Atividade: Área e perímetro de polígonos		Data: 03/09/2021
	Nome		8º ano

1. O sítio de João tem 7,8 alqueires paulistas. Qual a área deste sítio em m²?

2) Arraste e cole os valores corretos das medidas de área e perímetros dos polígonos abaixo:

			
A =	P =	A =	P =

			
A =	P =	A =	P =

1200 m ²	72 m ²	314 m ²	900 m ²
---------------------	-------------------	--------------------	--------------------

40 m	62,8 m	120 m	140 m
------	--------	-------	-------

